

B.Ed. Entrance Test-2019

Important : Please consult your Admit Card / Roll No. slip before filling your Roll Number on the Test Booklet and Answer Sheet.

Roll No. *In Figure* *In Words*

--	--	--	--	--	--

--	--	--	--	--	--

O.M.R. Answer Sheet Serial No.

Signature of Candidate : _____

Signature of Invigilator : _____

Time : 2½ Hours

Number of Questions : 150

Max. Marks : 150

DO NOT OPEN THE SEAL ON THE BOOKLET UNTIL ASKED TO DO SO.

INSTRUCTIONS :

- Write your Roll No. on the Question Booklet and also on the OMR Answer Sheet in the space provided and nowhere else.
- Enter the Question Booklet Serial No. on the OMR Answer Sheet. Darken the corresponding bubbles with **Black Ball Point/Black Gel Pen**.
- Do not make any identification mark on the Answer Sheet or Question Booklet.
- For Language paper of Hindi (Q. Nos. 121–150) and Punjabi (Q. Nos. 151–180), Candidates are to attempt only one language. Candidates who have studied Punjabi in 10th class have to attempt questions of Punjabi language.
- Each question has four alternative answers (A, B, C, D) of which only one is correct. For each question, darken only one bubble (A or B or C or D), whichever you think is the correct answer, on the Answer Sheet with **Black Ball Point / Black Gel Pen. Each question carries 1 mark. There shall be no negative marking for wrong answers.**
- If you do not want to answer a question, leave all the bubbles corresponding to that question blank in the Answer Sheet. No marks will be deducted in such cases.
- Darken the bubbles in the OMR Answer Sheet according to the Serial No. of the questions given in the Question Booklet.
- If you want to change an already marked answer, erase the shade in the darkened bubble completely.
- For rough work only the blank sheet at the end of the Question Booklet be used.
- The Answer Sheet is designed for computer evaluation. Therefore, if you do not follow the instructions given on the Answer Sheet, it may make evaluation by the computer difficult. **Any resultant loss to the candidate on the above account, i.e. not following the instructions completely, shall be of the candidate only.**
- After the test, hand over the Question Booklet and the Answer Sheet to the Assistant Superintendent on duty.
- Carbon copy of OMR is to be removed carefully by the candidates for the personal record.
- A candidate who creates disturbance of any kind or changes his/her seat or is found in possession of any paper possibly of any assistance or found giving or receiving assistance or found using any other unfair means during the examination will be expelled from the examination by the Centre Superintendent/Observer whose decision shall be final.
- Communication equipment such as mobile phones, pager, wireless set, scanner, camera or any electronic/digital gadget etc. is not permitted inside the examination hall. Use of calculators is not allowed.**
- The candidates will not be allowed to leave the Examination Hall/Room before the expiry of the allotted time.
- Defiance of any prohibited instruction will lead to unfair means case (UMC) and Disqualification of Candidature.
- Question Nos. 1 to 120 are common for all.

1. The Chairman of Committee for Draft National Education Policy-2019 is _____.
 (A) Dr. K. Kasturirangan (B) Sh. Prakash Javadekar
 (C) Prof. Manjul Bhargava (D) Prof. M.K. Sridhar
2. The Magna Carta of English Education in India is _____.
 (A) Charter Act (1813) (B) Macaulay's Minute for Education in India (1835)
 (C) Wood's Despatch on Education (1854) (D) Report of the Sargent Commission (1944)
3. _____ is the degree to which a test measures what it is supposed to measure ?
 (A) Reliability (B) Validity (C) Usability (D) Objectivity
4. Which organ of the body produces the fluid known as bile ?
 (A) Liver (B) Pancreas (C) Gall bladder (D) Kidney
5. Decibel is the unit for measuring _____.
 (A) speed of light (B) intensity of sound
 (C) intensity of heat (D) radio wave frequency
6. Chlorophyll is a naturally occurring chelate compound in which central metal is _____.
 (A) Copper (B) Iron (C) Magnesium (D) Calcium
7. Who is empowered to declare National Emergency ?
 (A) Prime Minister of India (B) President of India
 (C) Governors of State (D) Parliament
8. How many Schedules are contained in the Constitution of India ?
 (A) 12 schedules (B) 20 schedules
 (C) 10 schedules (D) 25 schedules
9. Kautilya was the Prime Minister of which ruler ?
 (A) Chandra Gupta (B) Chandra Gupta II
 (C) Chandragupta Maurya (D) Ashoka
10. Which book did Mohandas Gandhi write ?
 (A) India-The National (B) The Story of My Experiments with Truth
 (C) Two States (D) The Good Earth
11. Wings of Fire is an autobiography of :
 (A) Rabindranath Tagore (B) A.P.J. Abdul Kalam
 (C) Pranab Mukherjee (D) Shankar Dyal Sharma
12. Who was the poet of Kadambari ?
 (A) Tulsidas (B) Bhavabhuti
 (C) Rabindranath Tagore (D) Ishwar Chandra Vidyasagar
13. Who is the writer of the book 'Train to Pakistan'?
 (A) Amrita Pritam (B) Khushwant Singh
 (C) R.K. Narayan (D) Mulk Raj Anand

14. Who wrote Dilli ki Galiyan ?
 (A) Puran Singh (B) Nanak Singh (C) Dalip Kaur Tiwana (D) Amrita Pritam
15. Whose composition is "Pavitra Paapi"?
 (A) Prof. Puran Singh (B) Prof. Mohan Singh
 (C) Nanak Singh (D) Gurdial Singh Preetlari
16. Which of the following countries won Football World Cup maximum times ?
 (A) Germany (B) Italy (C) Argentina (D) Brazil
17. Who among the following won a bronze medal for India in Wrestling (Freestyle) at the 2016 Rio Olympics ?
 (A) Sandeep Tomar (B) Sakshi Malik
 (C) Vinesh Phogat (D) Narsingh Yadav
18. _____ was the first Indian cricketer who had taken hat-trick wicket in one day international.
 (A) Ravi Shastri (B) Kapil Dev (C) Chetan Sharma (D) Maninder Singh
19. Garba is the popular dance form of _____.
 (A) Haryana (B) Himachal Pradesh
 (C) Maharashtra (D) Gujarat
20. The National School of Drama is situated in _____.
 (A) Mumbai (B) New Delhi (C) Kolkata (D) Chennai
21. Ustad Bismilliah Khan was credited with popularizing the _____.
 (A) Shehnai (B) Sitar (C) Sarod (D) Flute
22. Indian Government has approved the creation of which agency for educational testing under the Indian Societies Registration Act, 1860 ?
 (A) National Educational Agency (B) National Testing Agency
 (C) National Education Testing Agency (D) National Higher Education Testing Agency
23. Which of the following scheme of Modern Education is associated with Zakir Hussain Committee ?
 (A) National Education Commission (1964-1966)
 (B) National Policy on Education (1986)
 (C) Wardha Scheme of Basic Education (1937)
 (D) Indian Education Commission (1882)
24. National Achievement Survey (2017) was conducted on students of _____.
 (A) Classes I-V (B) Classes VI-VIII
 (C) Classes II, VI & VIII (D) Classes III, V & VIII
25. Who is the Union Minister of Human Resource Development in Government of India ?
 (A) Dr. Subrahmanyam Jaishankar (B) Smt. Smriti Zubin Irani
 (C) Dr. Ramesh Pokhriyal 'Nishank' (D) Shri Prakash Javadekar
26. Who is the current Indian Chief of Army Staff ?
 (A) General Dalbir Singh (B) General Bipin Rawat
 (C) General Bikram Singh (D) General Vijay Kumar Singh

27. Who is Captain of Afghanistan Team in ICC World Cup-2019 ?
 (A) Gulbadin Naib (B) Mohammad Shahzad
 (C) Asghar Afghan (D) Rashid Khan
28. Which of the following initiatives is an effort of Income Tax Department of India to directly communicate with the tax payers ?
 (A) SWAYAM (B) SWAYAM PRABHA
 (C) Aaykar Setu (D) SUGAM VARTA
29. Find out the odd one :
 (A) Internet (B) Linux (C) Unix (D) Windows
30. Which of the following parties formed the 15th National Assembly in Pakistan ?
 (A) National People Party (B) Pakistan Muslim League-Nawaz
 (C) Pakistan Tehreek-e-Insaf (D) Pakistan Peoples Party
31. Teaching would be more effective if the teacher :
 (A) Makes his intent purposeful (B) Is master of the subject
 (C) Uses various instructional aids (D) Declares his objectives in the beginning
32. A teacher who is not able to draw the attention of his students should :
 (A) Evaluate his teaching method and improve it (B) Resign from the post
 (C) Find fault in his pupils (D) Start dictating
33. Distance Education means :
 (A) Education provided at distance
 (B) Education provided for those who cannot go to school
 (C) Education at the door step of the learner
 (D) Education for serving people
34. School level ETV programmes are produced by :
 (A) CIET (B) EICT (C) CITE (D) ETCE
35. Which of the following is Doordarshan's Educational Television Channel ?
 (A) Gurukul (B) Gyan Bharati (C) Gyan Darshan (D) Vidya
36. Which of the following is an audio-visual aid ?
 (A) Radio (B) Tape-recorder (C) Television (D) Projector
37. Indian Education Commission 1966 stresses :
 (A) Value Orientation (B) Religious Orientation
 (C) Inculcation of democratic value (D) None of the above
38. India is a :
 (A) Sovereign Democratic Socialist Republic (B) Sovereign Socialist Secular Republic
 (C) Sovereign Democratic Republic (D) Sovereign Socialist Secular Democratic Republic

39. 'Education' as per the Constitution of India finds the entry in :
 (A) Concurrent list (B) State list (C) Centre list (D) None of these
40. Who introduced for the first time free and compulsory Primary Education ?
 (A) Gopal Krishan Gokhale (B) M.K. Gandhi
 (C) N.P.E. 1968 (D) Primary Education Commission
41. Which was the first university to be opened in Britishers' time ?
 (A) Bombay University (B) Aligarh University
 (C) Calcutta University (D) Hyderabad University
42. Panjab University was shifted to Chandigarh in :
 (A) 1942 (B) 1950 (C) 1956 (D) 1962
43. Who said, "A lamp can never light another lamp unless it continues to burn its flame" ?
 (A) M.K. Gandhi (B) Rabindranath Tagore
 (C) Rousseau (D) Plato
44. A creative teacher is one who can :
 (A) Write poems and stories (B) Draw pictures
 (C) Narrate stories (D) Develop thinking ability of students
45. If some of the students in the class are found to be using intoxicants, the teacher should :
 (A) Inform police (B) Inform the headmaster
 (C) Advise them properly (D) Punish them
46. Which method is suitable for solving school problem faced by the teacher ?
 (A) Action Research (B) Survey Method (C) Historical Method (D) Descriptive Method
47. To identify non-social children in your class, you as a teacher would apply :
 (A) Aptitude test (B) Socio-metric test (C) P.Q. test (D) Achievement test
48. When having a heterogeneous group to teach, teacher should follow :
 (A) Lecture Method (B) Demonstration Method
 (C) Project Method (D) Lecture cum Demonstration Method
49. Teachers' relationship with students should be :
 (A) Formal (B) Informal (C) Affectionate (D) Professional
50. Success of a profession depends on :
 (A) Policy to please individuals (B) Maintaining relationship with people
 (C) Maintaining quality of work (D) Loyalty to the superiors
51. Majority of the teachers in your school want you to be the staff secretary. You are not very confident. How will you react to the proposal ?
 (A) Tell them curtly, that you wouldn't take it up
 (B) Tell them that you are not the apt person
 (C) Accept the challenge seeking their co-operation in all matters
 (D) Suggest the name of somebody instead

52. By which of the following methods the true evaluation of the students is possible ?
- (A) Formative evaluation (B) Continuous evaluation
(C) Evaluation twice in a year (D) Evaluation at the end of the course
53. Internal assessment is good because :
- (A) Students fear the teacher
(B) It gives weightage to classroom attention
(C) Only the teacher knows the progress and performance of the students
(D) It will improve the aggregate score
54. What are the characteristics of Continuous and Comprehensive Evaluation ?
- (A) It replaces marks with grades (B) It helps in reducing examination phobia
(C) It evaluate every aspect of the student (D) All of the above
55. A Library helps the student to develop :
- (A) Love for books (B) Comprehension ability
(C) Personal relationships (D) Friendly circle
56. For teachers the books should be issued for :
- (A) One week (B) One month (C) Six months (D) One year
57. What do you understand by reference book ?
- (A) Such a book cannot be issued (B) Such a book cannot be taken out of library
(C) Such a book can be read only in the library (D) All of the above
58. NSS aims at :
- (A) Helping students to get admission (B) Developing dignity of labour
(C) Keeping students busy (D) Developing society
59. Family is a means of :
- (A) Informal education (B) Formal education
(C) Non-formal education (D) Distance education
60. The word school has originated from :
- (A) Greek (B) French (C) Latin (D) English
61. Which number will come next in the given series ?
17, 13, 11, 7, 5, 1, ?
- (A) 1 (B) 2 (C) 0 (D) -1
62. Find the missing number in the following series :
240, _____, 120, 40, 10, 2
- (A) 480 (B) 240 (C) 220 (D) 126
63. Find the wrong number in the following series :
7, 9, 17, 42, 91, 172, 297
- (A) 9 (B) 91 (C) 42 (D) 172

64. Find the word which is least like the other words :
- (i) Zebra
 - (ii) Lion
 - (iii) Tiger
 - (iv) Horse
 - (v) Giraffe
- (A) (i) (B) (iii) (C) (iv) (D) (v)
65. Choose the pair, which is differently related as the other four pairs are related :
- (i) Gold : Ornaments
 - (ii) Cloth : Garments
 - (iii) Wood : Furniture
 - (iv) Leather : Footwear
 - (v) Earthen Pots : Clay
- (A) (v) (B) (iii) (C) (ii) (D) (i)
66. Find the graph of letters which is different from other three :
- (A) USNIKB (B) VTOJE (C) UPKEA (D) UMIDB
67. Replace the question mark (?) on the basis of relation between first two :
- Ornithologist : Bird :: Anthropologist : ?
- (A) Animals (B) Insects (C) Minerals (D) Mankind
68. Find the pair of words among four options, which has the same relation as the given pair has :
- SAPLING : TREE :: _____ : _____
- (A) Horse : Mare (B) Student : Teacher (C) Bud : Flower (D) Tree : Furniture
69. Choose the suitable pair of words to fill the blanks :
- _____ is to Uncle as Mother is to _____.
- (A) Brother, Brought up (B) Father, Aunt (C) Cousin, Beautiful (D) Aunt, Father
70. Find the word having most opposite meaning of WILLING :
- (A) Oblige (B) Reluctant (C) Distracted (D) Determined
71. Find the word having most similar meaning of GETAWAY :
- (A) Escape (B) Holiday (C) Freedom (D) Fantasy
72. If SEND-MONEY is coded as QCLB-KMLCW, what will be first and last letters of the word in the same code MOST-SECRET ?
- (A) R, K (B) K, R (C) O, V (D) V, U

73. If:

- (i) 'Quo Cui Heer' means 'Boy is good'
- (ii) 'Lai Quo Mea' means 'Meena is fair'
- (iii) 'Ruo Lev Mea' means 'All are fair'
- (iv) 'Si Hai Cui' means 'Dog was good'

then which of the following words stands for 'Boy' ?

- (A) Quo (B) Cui (C) Heer (D) Lai

74. If 'UNDERSTAND' is coded as 1234567823, how will 'START' be coded ?

- (A) 56781 (B) 67857 (C) 67247 (D) 65325

Information for Q. Nos. 75—76

Four boys Raj, Prem, Ved and Ashok are friendly with four girls Sushma, Kusum, Vimla and Poonam, not necessarily in the same order. Sushma and Vimla are friends, Ved's girlfriend does not like Sushma and Vimla, Kusum does not care for Ved. Prem's girlfriend is friendly with Sushma. Sushma does not like Raj.

75. Who is Raj's girlfriend ?

- (A) Sushma (B) Kusum (C) Vimla (D) Poonam

76. Who does not like Sushma and Vimla ?

- (A) Poonam (B) Raj (C) Kusum (D) Ashok

Information for Q. Nos. 77—78

- (i) A, B, C, D, E, F and G are sitting around a circle facing the centre
- (ii) G is second to the left of C, who is immediate left of F
- (iii) A is third to the left of E
- (iv) B is between D and E

77. Which of the following is false ?

- (A) A is 4th to the right of E (B) G is to the immediate right of D
(C) F is 3rd to the right of D (D) B is to the immediate left of D

78. What is the position of F ?

- (A) 4th to right of D (B) To the immediate left of C
(C) Between A and E (D) To the immediate right of A

79. On the basis of statement, four conclusions are derived. Find the correct one :

Statement : ‘Many creative persons become artists’

Conclusions :

- (A) A creative person will certainly become an artist
- (B) It is not possible to become an artist without creativity
- (C) A high level of creativity is needed to become an artist
- (D) Some artists are creative person

80. Out of three assumptions I, II and III after the statement, choose the implicit assumption :

“We do not want you to see our product in newspaper, visit our shop to get a full view” — An advertisement.

Assumptions : I. People decide to purchase a product after seeing its advertisement

II. Uncommon appeal may attract the customers

III. People may come to shop to see the product

- (A) None is implicit
- (B) Only I and II are implicit
- (C) Only II and III are implicit
- (D) All are implicit

81. Four arguments follow the statement. Find the most strong argument(s) :

Statement : “Should there be compulsory military training for each college student in India ?”

Arguments : I. Yes, it is only way to build a powerful nation

II. No, compulsion always leads to repulsion

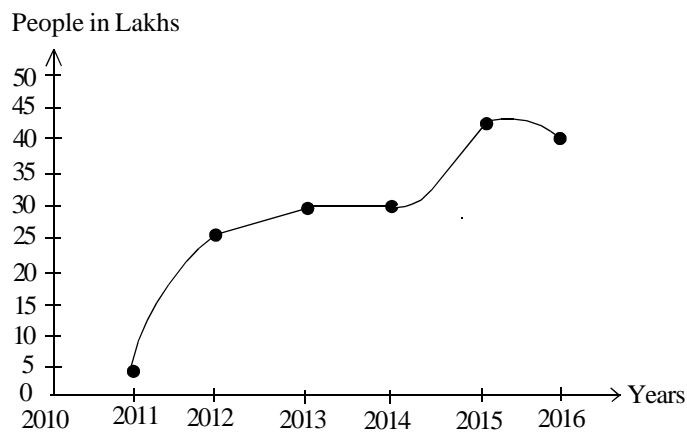
III. Yes, it is only way to impart discipline in young generation

IV. No, it is against basic democratic right

- (A) Only I and III are strong
- (B) Only II and IV are strong
- (C) Only I and IV are strong
- (D) All are strong

Information for Q. Nos. 82—84

The following graph depicts the number of people having income over Rs. 20000/- per month in a locality (in lakh) for six years 2011-2016 :



82. What is the average number of people in lakhs having income more than Rs. 20000/- per month for the given year ?

- (A) 25
- (B) 30
- (C) 33
- (D) 36

83. What is the difference in number of people having salary more than Rs. 20000/- in first half of the given years as compared to the second half of the period ?
 (A) 75 Lakh (B) 70 Lakh (C) 50 Lakh (D) 55 Lakh
84. In which year the number of people had the highest jump in the category of people drawing salary above Rs. 20000/- ?
 (A) Between 2014-15 (B) Between 2011-12 (C) Between 2012-13 (D) Between 2013-14
85. Choose the correct observation among the four observations given on the statement below :
 Statement : "Beware of postponing tasks : prompt decisions must be followed by prompt action."
 Observations :
 (A) Statement is a fact (B) Statement is an advice
 (C) Statement is an opinion (D) Statement is prejudice
86. 'X' is a dry state as drinking in that state is prohibited by law'.
 Which of the following statements, if true weakens the above statement ?
 (A) State 'X' consumes more liquor than most other states
 (B) State 'X' has the highest crime rate
 (C) In the state there is illegal trade of liquor on large scale
 (D) Serving liquor in 'X' is the most popular fashion

Information for Q. Nos. 87-90

All six members of a family A, B, C, D, E and F are travelling together. B is son of C but C is not mother of B. A and C are a married couple. E is brother of C. D is daughter of A. F is the brother of B.

87. How many male members are there in the family ?
 (A) 1 (B) 3 (C) 2 (D) 4
88. Who is mother of B ?
 (A) D (B) A (C) C (D) E
89. How many children does A have ?
 (A) 1 (B) 2 (C) 3 (D) 4
90. How is E related to D ?
 (A) Father (B) Brother
 (C) Uncle (D) Cannot be determined

ENGLISH LANGUAGE (Q. No. 91 — 120)

Choose the option which is closer in meaning to the given words (Q. 91—95)

91. Acumen :

- (A) Gentleness (B) Ineptness (C) Sharpness (D) Inability

92. Contentious :

- (A) Agreeable (B) Debatable (C) Loving (D) Irrevocable

93. Demagogue :

- (A) Peacemaker (B) Mediator (C) Referee (D) Soapbox Orator

94. Biodegradeable :

- (A) Unecological (B) Unsustainable (C) Imperishable (D) Decomposable

95. Embezzlement :

- (A) Scrupulous (B) Conscientious (C) Fairness (D) Misappropriation

Complete the following Proverbs (Q. 96—100)

96. Absence makes the heart grow :

- (A) wiser (B) warmer (C) fonder (D) restless

97. The cat is out of the ...

- (A) room (B) bag (C) cradle (D) hat

98. An idle brain is the devil's ...

- (A) home (B) favourite spot (C) workshop (D) factory

99. Do not bite off more than ...

- (A) you can digest (B) you can swallow (C) you can enjoy (D) you can chew

100. Fools rush in where angels fear :

- (A) to step (B) to walk (C) to tread (D) to go

Give one word for the following expressions (Q. 101—103)

101. Study of election trends is called :

- (A) Philology (B) Theology (C) Entomology (D) Psephology

102. One who has refined tastes in food and wine :

- (A) Glutton (B) Gorger (C) Guzzler (D) Gourmet

103. The school or college one attends is called :

- (A) Institute (B) Solarium (C) Planetarium (D) Alma Mater

Choose the correct preposition to fill in the blanks (Q. 104—107)

104. John travelled _____ America on his motorcycle.
(A) through (B) in (C) across (D) into
105. We arrived _____ our destination.
(A) on (B) in (C) over (D) at
106. The train passes _____ the tunnel.
(A) in (B) into (C) through (D) under
107. The lawyer said he will meet _____ your representatives.
(A) all (B) of (C) with (D) off

Choose the correct sentence (Q. 108—110)

108. (A) What is the difference among these cars ?
(B) What are the differences among whose cars ?
(C) What is the difference between these cars ?
109. (A) The doctor suggested the patient to take a vacation.
(B) The doctor suggested that the patient to take a vacation.
(C) The doctor suggested that the patient should take a vacation.
110. (A) No matter what that I do, I cannot make her happy.
(B) No matter that I do, I cannot make her happy.
(C) No matter what I do, I cannot make her happy.

Read the paragraph and choose the correct option to answer the questions (111—115) on the basis of your reading :

The increasing pace of contemporary life in the cities and the nuclear family are compelling men to expect more from their wives, if not actually in work, at least in companionship and a deeper understanding of their problems. Education and leisure, fewer children, modern amenities which lighten domestic duties are giving women the urge and time to look beyond the kitchen and home. Hence the time is propitious for establishing a new kind of harmony which gives the greatest opportunities for working as partners and for finding fulfilment. Through the ages the Indian woman has consciously or unconsciously helped to preserve, to reconcile and to carry forward our traditions and culture. Today, every home is buffeted by winds of change from all directions. How can we progress without being blown from our moorings ? Our future depends greatly on whether the Indian woman has the wisdom and discrimination to distinguish between what to respect and what to reject, whether she is able to achieve a harmonious synthesis between the best of our tradition and the most desirable of the modern.

111. Men are expecting more from their wives because of :
- (A) Fast life of cities (B) Break up of the joint family
(C) Fast city life and nuclear families (D) More problems of modern lives

112. The traditional role of the Indian woman has been to :

- (A) to bring up children (B) preserve, reconcile and carry forward our culture
(C) to oppose traditions (D) to reconcile with everything

113. The word 'moorings' is closest in meaning to :

- (A) modernity (B) traditions
(C) traditions and old beliefs (D) customs

114. India's future depends on :

- (A) right judgement by women to respect or reject traditions
(B) choose between traditions and modern ideas
(C) women's judgement to achieve a synthesis of tradition and modern ideas
(D) none of the above

115. The word 'buffeted' is closest in meaning to :

- (A) caught (B) lashed (C) affected strongly (D) unaffected

Choose the correctly punctuated sentence (Q. 116—118) from the given options :

116. (A) He said firmly please wait till I finish!

(B) He said firmly, "Please wait till I finish".

(C) He said, firmly, please wait, till I finish.

117. (A) We are celebrating parents day in the school today.

(B) We are celebrating parent day's in the school today.

(C) We are celebrating parents' day in the school today.

118. (A) Having finally arrived in the city we went shopping.

(B) Having finally arrived, in the city, we went shopping.

(C) Having finally arrived in the city, we went shopping.

Fill in the correct option in the sentences given below (Q. 119—120)

119. Last week we _____ a discussion on the delay in submitting our reports.

- (A) has (B) have (C) had

120. Jenny _____ interrupting me so often that I feel annoyed.

- (A) keep (B) kept (C) keeps

हिन्दी भाषा (प्रश्न संख्या 121—150)

121. निम्नलिखित में से कौन-सा व्यंजन 'ऊष्म व्यंजन' है ?
 (A) ट् (B) श् (C) ख् (D) फ्
122. निम्नलिखित शब्दों में से किस शब्द की वर्तनी (Spellings) सही है ?
 (A) कन्गन (B) टण्कण (C) दड्त (D) चञ्चल
123. निम्नलिखित शब्दों में से किस शब्द में 'अन्' उपसर्ग का प्रयोग नहीं हुआ है ?
 (A) अनाचार (B) अनादि (C) अनाथ (D) अनुपस्थित
124. निम्नलिखित शब्दों में से कौन-सा शब्द 'कपड़ा' शब्द का पर्यायवाची है ?
 (A) पट (B) पग (C) पथ (D) पय
125. निम्नलिखित शब्दों में से कौन-सा शब्द 'उपकार' शब्द का विलोम है ?
 (A) प्रतिकार (B) स्वीकार (C) अपकार (D) उदार
126. 'जिसे भुलाया न जा सके' _____ इस वाक्यांश के लिए किस 'एक शब्द' का प्रयोग किया जाता है ?
 (A) अस्मरणीय (B) अविस्मरणीय (C) विस्मरणीय (D) संग्रहणीय
127. निम्नलिखित में से कौन-सा 'अविकारी' शब्द है ?
 (A) सर्वनाम (B) क्रिया (C) क्रियाविशेषण (D) विशेषण
128. 'उस बालक को देखो' _____ इस वाक्य में प्रयुक्त 'उस' शब्द क्या है ?
 (A) सर्वनाम (B) संबंधबोधक (C) क्रिया (D) सार्वनामिक विशेषण
129. 'पूजना' शब्द से बनने वाली भाववाचक संज्ञा क्या है ?
 (A) पूजित (B) पूजनीय (C) पूजा (D) पूज्य
130. 'मैंने मयंक को पुस्तक दी' _____ इस वाक्य के रेखांकित अंश में किस कारक का प्रयोग किया गया है ?
 (A) कर्म (B) अपादान (C) संप्रदान (D) अधिकरण
131. निम्नलिखित वाक्यों में से किस वाक्य में 'निजवाचक सर्वनाम' का प्रयोग किया गया है ?
 (A) आज तुमने क्या खाया। (B) जो करेगा, सो भरेगा।
 (C) वह स्वतः ही जान जाएगा। (D) मैं पढ़ रही हूँ।
132. 'माला ने राधा को पुस्तक दी' _____ इस वाक्य में क्रिया के किस भेद का प्रयोग किया गया है ?
 (A) अकर्मक क्रिया (B) एककर्मक क्रिया (C) प्रेरणार्थक क्रिया (D) द्विकर्मक क्रिया
133. निम्नलिखित में से कौन-सा शब्द 'निपात' है ?
 (A) ही (B) है (C) हे (D) हो
134. 'बहादुरी से लड़ने वाला सिपाही अंत में जीत गया।' _____ इस वाक्य के रेखांकित अंश में किस पदबंध का प्रयोग किया गया है ?
 (A) संज्ञा पदबंध (B) क्रिया पदबंध (C) विशेषण पदबंध (D) सर्वनाम पदबंध
135. 'अध्यापिका कक्षा में गई तो वहाँ सभी विद्यार्थियों को पुस्तक पढ़ते देखा' _____ इस वाक्य में रेखांकित शब्द क्या है ?
 (A) स्थानवाचक क्रियाविशेषण (B) व्यधिकरण समुच्चयबोधक (C) अकर्मक क्रिया (D) गुणवाचक विशेषण
136. मिश्र वाक्य में आश्रित उपवाक्य मुख्यतः कितने प्रकार के होते हैं ?
 (A) एक (B) दो (C) तीन (D) चार

137. 'निः+रोग' की संधि क्या होगी ?

- (A) निरोग (B) नीरोग (C) निःरोग (D) निष्रोग

138. निम्नलिखित में से कौन-सा 'अव्ययीभाव समास' का उदाहरण है ?

- (A) राजकुमारी (B) यथाशक्ति (C) दोपहर (D) नीलकमल

139. 'तुच्छ व्यक्ति के साथ मित्रता नहीं निभ सकती' _____ इस अर्थ में किस मुहावरे का प्रयोग किया जाता है ?

- (A) अधजल गगरी छलकत जाए (B) उलटा चोर कोतवाल को डाँटे
(C) एक तो करेला दूसरा नीम चढ़ा (D) ओछे की प्रीत, बालू की भीत

140. रिक्त स्थान भरिए - 'घर का भेदी _____ ढाए' ।

- (A) छत (B) ब्रज (C) लंका (D) सब

141. कौन-सा वाक्य शुद्ध है ?

- (A) राम, सीता या राधा पढ़ रहे हैं। (B) राम, सीता या राधा पढ़ रही है।
(C) राम, सीता या राधा पढ़ रही हैं। (D) राम, सीता या राधा पढ़ रहे है।

142. 'Black Board' का हिन्दी - अनुवाद है :

- (A) श्वेतपट्ट (B) श्यामपट्ट (C) नीलपट्ट (D) हरितपट्ट

143. 'Constitution' का हिन्दी - अनुवाद है :

- (A) संविधान (B) विधिविधान (C) कानून (D) विवरण पुस्तिका

144. 'तलवार की धार' मुहावरे का अर्थ है :

- (A) बहुत तेज़ धार (B) बहुत अधिक काम (C) पथरीला रास्ता (D) कठिन काम

145. इस वाक्य के अंत में किस विराम-चिह्न का प्रयोग उचित रहेगा - 'वह मेरी बात नहीं सुनता' :

- (A) । (B) ? (C) ! (D) ;

निम्नलिखित अनुच्छेद को ध्यान से पढ़िए और इसके आधार पर (प्रश्न संख्या 146-150) के उत्तर दीजिए।

विदेशों में भी हिंदी संपर्क भाषा के रूप में फल-फूल रही है। विश्व के 236 विश्वविद्यालयों में हिंदी की पढ़ाई विधिवत् हो रही है। बाज़ार की भाषा के रूप में भी हिंदी विकास कर रही है। यह सच है कि बाज़ार की स्वीकार्यता और राजनीतिक प्रोत्साहन भाषा के विकास को ताकत देते हैं। इसी के कारण भाषा रोजगार देने की क्षमता पाती है। रेडियो, टी.वी. और कम्प्यूटर पर हिंदी में कार्य करना अब सरल होता जा रहा है। कृतिदेव, मंगल, यूनिकोड आदि के प्रचलन से हिंदी में कार्य करना सुविधाजनक हो गया है। स्मार्ट फोन जैसे आधुनिक उपकरणों में इनबिल्ट हिंदी भाषा के फॉण्ट दिए जा रहे हैं। इन कारणों से इलैक्ट्रॉनिक माध्यमों पर हिंदी तेज़ी से लोकप्रिय हो रही है। टेलिविज़न और सिनेमा गाँवों में भी तेज़ी से हिंदी भाषा की स्वीकार्यता बढ़ा रहे हैं। हॉलीवुड फिल्मों अब बड़ी मात्रा में हिंदी में डब होकर रिलीज़ हो रही हैं।

146. इलैक्ट्रॉनिक माध्यमों पर हिंदी तेज़ी से लोकप्रिय क्यों हो रही है ?

- (A) यह सरल भाषा है
(B) यह संपर्क भाषा है
(C) स्मार्ट फोन जैसे आधुनिक उपकरणों में इनबिल्ट हिंदी भाषा के फॉण्ट दिए जा रहे हैं।
(D) यह संस्कृत से उपजी भाषा है।

147. विश्व के कितने विश्वविद्यालयों में हिंदी की पढ़ाई विधिवत् हो रही है ?
 (A) 236 (B) 263 (C) 233 (D) 326
148. गाँवों में हिंदी की स्वीकार्यता किसके कारण बढ़ रही है ?
 (A) हिंदी फॉण्ट के कारण (B) विदेशी प्रभाव के कारण
 (C) टेलिविज़न और सिनेमा के कारण (D) संपर्क भाषा होने के कारण
149. भाषा की रोज़गार देने की क्षमता किसके कारण बढ़ती है ?
 (A) बाज़ार की स्वीकार्यता और राजनीतिक प्रोत्साहन के कारण
 (B) कृतिदेव, मंगल, यूनिकोड आदि के प्रचलन के कारण
 (C) गाँवों में भाषा की स्वीकार्यता के कारण
 (D) विदेशों में संपर्क भाषा के रूप में फलने-फूलने के कारण
150. कौन-सी फिल्मों अब बड़ी मात्रा में हिंदी में डब होकर रिलीज़ हो रही हैं ?
 (A) उड़िया की (B) जापान की (C) संस्कृत की (D) हॉलीवुड की

ਪੰਜਾਬੀ ਭਾਸ਼ਾ (ਪ੍ਰਸ਼ਨ ਸੰਖਿਆ 151 ਤੋਂ 180)

151. ਭਾਸ਼ਾ :
 (A) ਮਨੁੱਖੀ ਵਿਕਾਸ ਦਾ ਹਿੱਸਾ ਹੈ। (B) ਮਨੁੱਖੀ ਅਵਿਸ਼ਕਾਰ ਹੈ।
 (C) ਸਮਾਜ ਵਿਗਿਆਨਕ ਦੇਣ ਹੈ। (D) ਰੱਬੀ ਦਾਤ ਹੈ।
152. ਹੇਠ ਲਿਖਿਆਂ ਵਿੱਚੋਂ ਕਿਹੜਾ ਜੁੱਟ ਸਹੀ ਹੈ ?
 (A) ਪੁਆਧੀ : ਨਵਾਂਸ਼ਹਿਰ, ਪਟਿਆਲਾ (B) ਦੁਆਬੀ : ਹੁਸ਼ਿਆਰਪੁਰ, ਰੋਪੜ
 (C) ਮਾਝੀ : ਅੰਮ੍ਰਿਤਸਰ, ਗੁਰਦਾਸਪੁਰ (D) ਮਲਵਈ : ਜਲੰਧਰ, ਲੁਧਿਆਣਾ
153. ਸੰਯੁਕਤ ਵਾਕ ਹੁੰਦਾ ਹੈ :
 (A) ਸਮਾਨ ਤੇ ਅਧੀਨ ਵਾਕਾਂ ਦਾ ਜੋੜ (B) ਦੋ ਵਾਕਾਂ ਦਾ ਜੋੜ
 (C) ਸਮਾਨ ਉਪਵਾਕਾਂ ਦਾ ਜੋੜ (D) ਦੋ ਅਧੀਨ ਉਪਵਾਕਾਂ ਦਾ ਜੋੜ
154. ਗੁਰਮੁਖੀ ਲਿਪੀ ਵਿੱਚ ਕੁੱਲ ਕਿੰਨੇ ਅੱਖਰ ਹਨ ?
 (A) 35 (B) 56 (C) 65 (D) 41
155. ਕਾਰਕੀ ਸਿਧਾਂਤ ਅਨੁਸਾਰ ਪੰਜਾਬੀ ਦਾ ਕਾਰਕੀ ਮੇਲ ਹੈ :
 (A) ਪੜਨਾਂਵ ਤੇ ਨਾਂਵ (B) ਕਰਤਾ ਤੇ ਕਰਮ (C) ਪ੍ਰਧਾਨ ਕਰਮ ਤੇ ਕਰਤਾ (D) ਨਾਂਵ ਤੇ ਕਿਰਿਆ
156. ਹੇਠ ਲਿਖਿਆ ਵਿੱਚੋਂ ਕਿਹੜੇ ਸ਼ਬਦ ਜੋੜ ਠੀਕ ਹਨ ?
 (A) ਇਕਹਰਾ (B) ਇਕੈਹਰਾ (C) ਇਕਹਿਰਾ (D) ਇਕਹੁਰਾ

157. 'ਈਦ ਪਿਛੋਂ ਤੰਬਾ ਫੁਕੜਾ' ਮੁਹਾਵਰੇ ਦਾ ਅਰਥ ਹੈ :

- (A) ਕੁਵੇਲੇ ਮੱਦਦ ਕਰਨੀ (B) ਸਮੇਂ ਸਿਰ ਮੱਦਦ ਕਰਨੀ (C) ਵਿਚਾਲੇ ਮੱਦਦ ਕਰਨੀ (D) ਪਹਿਲੇ ਮੱਦਦ ਕਰਨੀ

158. ਪੰਜਾਬੀ ਵਾਕ-ਬਣਤਰ ਵਿੱਚ ਮੁੱਢਲੇ ਰੂਪ ਵਿੱਚ ਕਿਹੜੇ ਤੱਤ ਕਾਰਜਸ਼ੀਲ ਹੁੰਦੇ ਹਨ ?

- (A) ਕਰਤਾ, ਕਰਮ, ਕਿਰਿਆ (B) ਨਾਂਵ, ਪੜਨਾਂਵ, ਵਿਸ਼ੇਸ਼ਣ (C) ਕਰਤਾ, ਕਾਰਕ, ਵਿਸ਼ੇਸ਼ਣ (D) ਕਰਮ, ਕਿਰਿਆ ਤੇ ਨਾਂਵ

159. ਪੰਜਾਬੀ ਦੀ 'ਕ' ਧੁਨੀ ਦਾ ਉਚਾਰਨ ਕਿਹੜਾ ਹੈ ?

- (A) ਤਾਲਵੀ (B) ਸੁਰਯੰਤਰੀ (C) ਕੰਠੀ (D) ਹੇਠੀ

160. ਜਿਹਨਾਂ ਸ਼ਬਦਾਂ ਦੇ ਰੂਪਾਂ ਵਿੱਚ ਪਰਿਵਰਤਨ ਆ ਸਕਦਾ ਹੋਵੇ, ਉਹਨਾਂ ਨੂੰ ਕਿਹਾ ਜਾਂਦਾ ਹੈ :

- (A) ਵਿਕਾਰੀ (B) ਅਵਿਕਾਰੀ (C) ਧਾਤੂ (D) ਮੂਲ

161. 'ਤੇ ਖੁੱਕਿਆ ਮੂੰਹ' ਤੇ ਪੈਂਦਾ ਹੈ :

- (A) ਚੰਨ (B) ਸੂਰਜ (C) ਮੰਗਲ (D) ਕੇਤੂ

162. ਜਿਹਨਾਂ ਸ਼ਬਦਾਂ ਤੋਂ ਕਿਸੇ ਕੰਮ ਦੇ ਹੋਣ ਜਾਂ ਵਾਪਰਨ ਦਾ ਪਤਾ ਲੱਗੇ, ਉਹਨਾਂ ਨੂੰ ਕਿਹਾ ਜਾਂਦਾ ਹੈ :

- (A) ਵਿਸ਼ੇਸ਼ਣ (B) ਕਿਰਿਆ (C) ਨਾਂਵ (D) ਕਿਰਿਆ ਵਿਸ਼ੇਸ਼ਣ

163. ਭਾਸ਼ਾ ਨੂੰ ਲਿਖਤ ਵਿੱਚ ਢਾਲਣ ਲਈ ਵਰਤੇ ਜਾਂਦੇ ਸ਼ਬਦਾਂ ਨੂੰ ਕਹਿੰਦੇ ਹਨ :

- (A) ਭਾਸ਼ਾ (B) ਉਪਭਾਸ਼ਾ (C) ਲਿਪੀ (D) ਵਿਅਕਤੀ ਭਾਸ਼ਾ

164. ਕਾਰਜ ਦੇ ਆਧਾਰ ਤੇ ਪੰਜਾਬੀ ਭਾਸ਼ਾ ਦੇ ਵਾਕਾਂ ਨੂੰ ਕਿੰਨੀਆਂ ਸ਼੍ਰੇਣੀਆਂ ਵਿੱਚ ਵੰਡਿਆ ਜਾ ਸਕਦਾ ਹੈ :

- (A) ਤਿੰਨ (B) ਪੰਜ (C) ਸੱਤ (D) ਅੱਠ

165. 'ਕੁੜੀ ਬਹੁਤ ਸੁਰੀਲਾ ਗਾਉਂਦੀ ਹੈ' ਵਾਕ ਵਿੱਚ ਸੁਰੀਲਾ ਕਿਸ ਸ਼ਬਦ ਸ਼੍ਰੇਣੀ ਵਿੱਚ ਆਉਂਦਾ ਹੈ ?

- (A) ਵਿਸ਼ੇਸ਼ਣ (B) ਕਾਰਕ (C) ਕਿਰਿਆ (D) ਕਿਰਿਆ ਵਿਸ਼ੇਸ਼ਣ

166. 'ਉਹ ਕੁੜੀ ਬਹੁਤ ਖੁਸ਼ ਹੈ ਕਿਉਂਕਿ ਉਹ ਪੰਜਾਬ ਵਿੱਚੋਂ ਫਸਟ ਆਈ ਹੈ' ਕਿਸ ਕਿਸਮ ਦਾ ਵਾਕ ਹੈ ?

- (A) ਸਾਧਾਰਨ ਵਾਕ (B) ਸੰਯੁਕਤ ਵਾਕ (C) ਮਿਸ਼ਰਤ ਵਾਕ (D) ਇਹਨਾਂ ਵਿੱਚੋਂ ਕੋਈ ਵੀ ਨਹੀਂ

167. 'ਭਾਵੇਂ ਉਹ ਗਰੀਬ ਹੈ ਫਿਰ ਵੀ ਸੰਤੁਸ਼ਟ ਹੈ' ਵਾਕ ਵਿੱਚ 'ਭਾਵੇਂ', 'ਫਿਰ ਵੀ' ਕੀ ਹੈ ?

- (A) ਵਿਸ਼ੇਸ਼ਣ (B) ਯੋਜਕ (C) ਕਿਰਿਆ (D) ਸੰਬੰਧਕ

168. 'ਪੰਜਾਬ ਭਵਨ' ਕਿਸ ਕਿਸਮ ਦਾ ਸਮਾਸੀ ਸ਼ਬਦ ਹੈ ?

- (A) ਨਾਂਵ + ਨਾਂਵ (B) ਕਿਰਿਆ + ਨਾਂਵ (C) ਵਿਸ਼ੇਸ਼ਣ + ਨਾਂਵ (D) ਵਿਸ਼ੇਸ਼ਣ + ਵਿਸ਼ੇਸ਼ਣ

169. 'ਆਹਾ! ਅਸੀਂ ਮੈਚ ਜਿੱਤ ਗਏ' ਕਿਸ ਵੰਨਗੀ ਦਾ ਵਾਕ ਹੈ ?

- (A) ਵਿਸਮਿਕ (B) ਪ੍ਰਸ਼ਨਵਾਚੀ (C) ਪੂਰਨ ਵਾਕ (D) ਹਾਂ-ਵਾਚੀ

ਪੈਰੂ ਦੇ ਆਧਾਰ 'ਤੇ ਉੱਤਰ ਦਿਓ (ਪ੍ਰਸ਼ਨ 170-172) :

ਸਹਿਣਸ਼ੀਲਤਾ ਮਨ ਦੀ ਉਹ ਅਵਸਥਾ ਹੈ ਜਦੋਂ ਤੁਸੀਂ ਨਾ ਗੁੱਸੇ ਹੋਵੋ ਤੇ ਨਾ ਹੀ ਉਦਾਸ। ਇਹ ਟਿਕਾਓ ਦੀ ਅਵਸਥਾ ਹੈ। ਜਿਸ ਦੀ ਕਿਸੇ ਕੰਮ, ਕਿਸੇ ਪਿਆਰ, ਕਿਸੇ ਲਗਨ, ਕਿਸੇ ਜਨੂੰਨ ਨਾਲ ਲਿਵ ਲੱਗੀ ਹੋਵੇ, ਉਸ ਕੋਲ ਗੁੱਸੇ ਹੋਣ ਲਈ ਸਮਾਂ ਨਹੀਂ ਹੁੰਦਾ।

170. ਪੈਰੂ ਦਾ ਢੁੱਕਵਾਂ ਸਿਰਲੇਖ ਚੁਣੋ :

- (A) ਸਹਿਜਤਾ (B) ਸਹਿਣਸ਼ੀਲਤਾ (C) ਪਿਆਰ ਤੇ ਲਗਨ (D) ਗੁੱਸਾ

171. ਪੈਰੂ ਵਿੱਚ 'ਲਿਵ' ਕਿਹੜੇ ਅਰਥਾਂ ਵਿੱਚ ਵਰਤਿਆ ਗਿਆ ਹੈ ?

- (A) ਮਨ ਦੀ ਅਵਸਥਾ (B) ਪਿਆਰ ਦੀ ਅਵਸਥਾ (C) ਪਿਆਰ ਦੀ ਲਗਨ (D) ਸਹਿਜਤਾ ਤੇ ਗੁੱਸਾ

172. ਜਿਸ ਨੂੰ ਪਿਆਰ ਦੀ ਲਗਨ ਲੱਗੀ ਹੋਵੇ, ਉਸ ਕੋਲ ਕਿਸ ਕੰਮ ਲਈ ਸਮਾਂ ਨਹੀਂ ਹੁੰਦਾ ?

- (A) ਰੋਣ ਲਈ (B) ਨੱਚਣ ਲਈ (C) ਗੁੱਸੇ ਹੋਣ ਲਈ (D) ਖੇਡਣ ਲਈ

173. ਉਹ ਥਾਂ ਜਿਹੜੀ ਸਾਰੇ ਪਿੰਡ ਦੀ ਸਾਂਝੀ ਹੋਵੇ, ਉਸ ਨੂੰ ਕਹਿੰਦੇ ਹਨ :

- (A) ਪੰਚਾਇਤੀ (B) ਸ਼ਾਮਲਾਟ (C) ਸਰਪੰਚੀ (D) ਸਾਮਰਾਜੀ

174. 'ਆਗਿਆਕਾਰ' ਸ਼ਬਦ ਵਿੱਚ ਕਿਹੜਾ ਪਛੇਤਰ ਵਰਤਿਆ ਗਿਆ ਹੈ ?

- (A) ਆਕਾਰ (B) ਕਾਰ (C) ਅਕਾਰ (D) ਇਹਨਾਂ ਵਿੱਚੋਂ ਕੋਈ ਵੀ ਨਹੀਂ

175. ਹੇਠ ਲਿਖੇ ਸ਼ਬਦਾਂ ਵਿੱਚੋਂ ਕਿਹੜਾ ਸ਼ਬਦ 'ਅਲੌਕਿਕ' ਦਾ ਸਮਾਨਾਰਥੀ ਨਹੀਂ ਹੈ ?

- (A) ਅਦਭੁਤ (B) ਅਨੋਖਾ (C) ਬੇਮਿਸਾਲ (D) ਸਥਿਰ

176. ਨਾਂਵ ਕਿੰਨੀ ਕਿਸਮ ਦੇ ਹੁੰਦੇ ਹਨ ?

- (A) ਚਾਰ (B) ਤਿੰਨ (C) ਪੰਜ (D) ਛੇ

177. 'ਕਣਕ ਖੇਤ, ਕੁੜੀ ਪੇਟ ਆ ਜਵਾਈਆ ਮੰਡੇ ਖਾ' ਦਾ ਸੰਬੰਧ ਕਿਸ ਰੂਪ ਨਾਲ ਹੈ ?

- (A) ਬੁਝਾਰਤ (B) ਮੁਹਾਵਰਾ (C) ਟੱਪੇ (D) ਅਖ਼ਾਣ

178. ਭਾਸ਼ਾ ਦੀ ਸੰਚਾਰ ਪ੍ਰਕ੍ਰਿਆ ਦਾ ਅੰਗ ਹੈ :

- (A) ਬੋਲ (B) ਇਸ਼ਾਰਾ (C) ਹਾਵ-ਭਾਵ (D) ਉਪਰੋਕਤ ਸਾਰੇ

179. 'ਬੱਚਿਓ ! ਰੋਲਾ ਨਾ ਪਾਓ' ਵਾਕ ਵਿੱਚ 'ਬੱਚਿਓ' ਸ਼ਬਦ ਕਿਸ ਤਰ੍ਹਾਂ ਦਾ ਸ਼ਬਦ ਹੈ ?

- (A) ਵਿਅੰਗਮਈ (B) ਸੰਬੋਧਨੀ (C) ਫਿਟਕਾਰਮਈ (D) ਕਰੁਣਾਮਈ

180. 'ਮੇਜ਼ ਉਪਰ ਪੁਸਤਕਾਂ ਪਈਆਂ ਹਨ' ਇਸ ਵਾਕ ਵਿੱਚ 'ਮੇਜ਼ ਉਪਰ' ਦਾ ਕਾਰਕ ਹੈ :

- (A) ਸੰਬੋਧਨ ਕਾਰਕ (B) ਸੰਪਾਦਨ ਕਾਰਕ (C) ਅਧਿਕਰਨ ਕਾਰਕ (D) ਕਰਮ ਕਾਰਕ

HINDI/PUNJABI VERSIONS (Q. No. 1-90)

1. ड्राफ्ट राष्ट्रीय शिक्षा नीति, 2019 के लिए समिति का अध्यक्ष _____ है।
 (A) डॉ. के. कस्तूरीरंगन (B) श्री प्रकाश जावड़ेकर
 (C) प्रो. मंजुल भार्गव (D) प्रो. एम.के. श्रीधर
2. भारत में अंग्रेजी शिक्षा का मैगना कार्टा _____ है।
 (A) चार्टर अधिनियम (1813)
 (B) भारत में शिक्षा के लिए मैकुले का समय (1835)
 (C) बुड्स डिस्पैच ऑन एजुकेशन (1854)
 (D) सार्जेंट कमीशन की रिपोर्ट (1944)
3. _____ वह डिग्री है जिसके लिए एक परीक्षण मापता है कि उसे क्या मापना चाहिए।
 (A) विश्वसनीयता (B) वैधता
 (C) उपयोगिता (D) निष्पक्षता
4. शरीर के किस अंग में पित्त द्रव उत्पन्न होता है ?
 (A) जिगर (B) अग्न्याशय
 (C) पित्ताशय (D) गुर्दे
5. डेसिबल _____ को मापने की इकाई है।
 (A) प्रकाश की गति (B) ध्वनि की तीव्रता
 (C) ताप की तीव्रता (D) रेडियो तरंग आवृत्ति
6. क्लोरोफिल एक प्राकृतिक रूप से पाए जाने वाला चीलेट (Chelate) यौगिक है जिसमें मुख्य धातु _____ है।
 (A) कॉपर (B) आयरन
 (C) मैगनीशियम (D) कैल्शियम
7. राष्ट्रीय आपातकाल घोषित करने का अधिकार किसे है ?
 (A) भारत के प्रधानमंत्री (B) भारत के राष्ट्रपति
 (C) राज्य के राज्यपाल (D) संसद
8. भारत के संविधान में कितनी अनुसूचियां निहित हैं ?
 (A) 12 अनुसूचियां (B) 20 अनुसूचियां
 (C) 10 अनुसूचियां (D) 25 अनुसूचियां
1. ड्राफ्ट कॅमी सिंथिआ नीती-2019 लਈ ਕਮੇਟੀ ਦਾ ਚੈਅਰਮੈਨ _____ ਹੈ।
 (A) ਡਾ. ਕੇ. ਕਸਤੂਰੀਰੰਗਨ (B) ਸ਼੍ਰੀ ਪ੍ਰਕਾਸ਼ ਜਾਵਦੇਕਰ
 (C) ਪ੍ਰੋ. ਮੰਜੁਲ ਭਾਰਗਵ (D) ਪ੍ਰੋ. ਐੱਮ. ਕੇ. ਸ਼੍ਰੀਧਰ
2. ਭਾਰਤ ਵਿੱਚ ਅੰਗਰੇਜ਼ੀ ਸਿੱਖਿਆ ਦਾ ਮੈਗਨਾ ਕਾਰਟਾ _____ ਹੈ।
 (A) ਚਾਰਟਰ ਐਕਟ (1813)
 (B) ਮੈਕੂਲਾ ਦਾ ਭਾਰਤ ਵਿੱਚ ਸਿੱਖਿਆ ਲਈ ਸਮਾਂ (1835)
 (C) ਵੁੱਡਜ਼ ਡਿਸਪੈਚ ਆਨ ਐਜੂਕੇਸ਼ਨ (1854)
 (D) ਸਾਰਜੈਂਟ ਕਮਿਸ਼ਨ ਦੀ ਰਿਪੋਰਟ (1944)
3. _____ ਉਹ ਡਿਗਰੀ ਹੈ ਜਿਸ ਨਾਲ ਇੱਕ ਟੈਸਟ ਮਾਪਦਾ ਹੈ ਕਿ ਇਸ ਨੂੰ ਮਾਪਣਾ ਚਾਹੀਦਾ ਹੈ।
 (A) ਭਰੋਸੇਯੋਗਤਾ (B) ਵੈਧਤਾ
 (C) ਉਪਯੋਗੀ (D) ਨਿਸ਼ਪਕਸ਼ਤਾ
4. ਸਰੀਰ ਦੇ ਕਿਹੜੇ ਅੰਗ ਵਿੱਚੋਂ ਤਰਲ ਪੈਂਦਾ ਹੁੰਦਾ ਹੈ ?
 (A) ਜਿਗਰ
 (B) ਪਾਚਕ (Pancreas)
 (C) ਪੇਟ ਬਲੈਡਰ (Gall Bladder)
 (D) ਗੁਰਦੇ
5. ਡੇਸੀਬਲ _____ ਨੂੰ ਮਾਪਣ ਲਈ ਇਕਾਈ ਹੈ।
 (A) ਰੋਸ਼ਨੀ ਦੀ ਸਪੀਡ
 (B) ਆਵਾਜ਼ ਦੀ ਤੀਬਰਤਾ
 (C) ਗਰਮੀ ਦੀ ਤੀਬਰਤਾ
 (D) ਰੇਡੀਓ ਲਹਿਰ ਫ੍ਰੀਕੁਐਂਸੀ
6. ਕਲੋਰੋਫਿਲ ਇੱਕ ਕੁਦਰਤੀ ਤੌਰ ਤੇ ਵਾਪਰ ਰਹੀਆਂ ਚੀਲੇਟ (Chelate) ਮਿਸ਼ਰਣ ਹੈ ਜਿਸ ਵਿੱਚ ਮੁੱਖ ਧਾਤੂ _____ ਹੈ।
 (A) ਕੋਪਰ (B) ਆਇਰਨ
 (C) ਮੈਗਨੇਸ਼ੀਅਮ (D) ਕੈਲਸ਼ੀਅਮ
7. ਨੈਸ਼ਨਲ ਐਮਰਜੈਂਸੀ ਘੋਸ਼ਿਤ ਕਰਨ ਦਾ ਅਧਿਕਾਰ ਕਿਸਦਾ ਹੈ ?
 (A) ਭਾਰਤ ਦਾ ਪ੍ਰਧਾਨਮੰਤਰੀ (B) ਭਾਰਤ ਦੇ ਰਾਸ਼ਟਰਪਤੀ
 (C) ਰਾਜ ਦੇ ਰਾਜਪਾਲ (D) ਸੰਸਦ
8. ਭਾਰਤੀ ਸੰਵਿਧਾਨ ਵਿੱਚ ਕਿੰਨੀਆਂ ਅਨੁਸੂਚੀਆਂ ਨਿਹਿਤ ਹਨ ?
 (A) 12 ਅਨੁਸੂਚੀਆਂ (B) 20 ਅਨੁਸੂਚੀਆਂ
 (C) 10 ਅਨੁਸੂਚੀਆਂ (D) 25 ਅਨੁਸੂਚੀਆਂ

9. कौटिल्य किस शासक के प्रधानमंत्री थे ?
 (A) चंद्रगुप्त (B) चंद्रगुप्त II
 (C) चंद्रगुप्त मौर्य (D) अशोका
10. मोहनदास गांधी ने कौनसी पुस्तक लिखी थी ?
 (A) India-The National
 (B) The Story of My Experiments with Truth
 (C) Two States
 (D) The Good Earth
11. 'विंग्स ऑफ फायर' एक आत्मकथा है :
 (A) रवींद्रनाथ टैगोर
 (B) ए.पी.जे. अब्दुल कलाम
 (C) प्रणब मुखर्जी
 (D) शंकरदयाल शर्मा
12. 'कादम्बरी' के कवि कौन थे ?
 (A) तुलसीदास (B) भवभूति
 (C) रवींद्रनाथ टैगोर (D) ईश्वरचंद्र विद्यासागर
13. 'ट्रेन टू पाकिस्तान' पुस्तक के लेखक कौन हैं ?
 (A) अमृता प्रीतम (B) खुशवंत सिंह
 (C) आर.के. नारायण (D) मुल्क राज आनंद
14. दिल्ली की गलियां किसने लिखी ?
 (A) पूरन सिंह (B) नानक सिंह
 (C) दलीप कौर तिवाना (D) अमृता प्रीतम
15. "पवित्र पापी" किसकी रचना है ?
 (A) प्रो. पूरन सिंह
 (B) प्रो. मोहन सिंह
 (C) नानक सिंह
 (D) गुरदयाल सिंह प्रीतलारी
16. निम्नलिखित में से किस देश ने अधिकतम बार फुटबॉल वर्ल्ड कप जीता ?
 (A) जर्मनी (B) इटली
 (C) अर्जेंटीना (D) ब्राजील
9. ਕੌਟਿਲਆ ਕਿਸ ਸ਼ਾਸਕ ਦੇ ਪ੍ਰਧਾਨਮੰਤਰੀ ਸਨ ?
 (A) ਚੰਦਰਗੁਪਤ (B) ਚੰਦਰਗੁਪਤ II
 (C) ਚੰਦਰਗੁਪਤ ਮੌਰੀਆ (D) ਅਸ਼ੋਕਾ
10. ਮੋਹਨਦਾਸ ਗਾਂਧੀ ਨੇ ਕਿਹੜੀ ਕਿਤਾਬ ਲਿਖੀ ਸੀ ?
 (A) India-The National
 (B) The Story of My Experiments with Truth
 (C) Two States
 (D) The Good Earth
11. 'ਵਿੰਗਸ ਆਫ ਫਾਇਰ' ਇੱਕ ਆਤਮਕਥਾ ਹੈ :
 (A) ਰਬਿੰਦਰਨਾਥ ਟੈਗੋਰ
 (B) ਏ. ਪੀ. ਜੇ. ਅਬਦੁਲ ਕਲਾਮ
 (C) ਪ੍ਰਣਬ ਮੁਖਰਜੀ
 (D) ਸ਼ੰਕਰਦਯਾਲ ਸ਼ਰਮਾ
12. ਕਾਦਮਬੜੀ ਦੇ ਕਵੀ ਕੌਣ ਸਨ ?
 (A) ਤੁਲਸੀਦਾਸ
 (B) ਭਵਭੂਤੀ
 (C) ਰਬਿੰਦਰਨਾਥ ਟੈਗੋਰ
 (D) ਈਸ਼ਵਰਚੰਦਰ ਵਿੰਦਿਆਸਾਗਰ
13. 'ਟ੍ਰੇਨ ਟੂ ਪਾਕਿਸਤਾਨ' ਕਿਤਾਬ ਦਾ ਲੇਖਕ ਕੌਣ ਹੈ ?
 (A) ਅੰਮ੍ਰਿਤਾ ਪ੍ਰੀਤਮ (B) ਖੁਸ਼ਵੰਤ ਸਿੰਘ
 (C) ਆਰ. ਕੇ. ਨਰਾਇਣ (D) ਮੁਲਕ ਰਾਜ ਆਨੰਦ
14. 'ਦਿਲੀ ਦੀਆਂ ਗਲੀਆਂ' ਕਿਸ ਨੇ ਲਿਖੀ ?
 (A) ਪੂਰਨ ਸਿੰਘ (B) ਨਾਨਕ ਸਿੰਘ
 (C) ਦਲੀਪ ਕੌਰ ਟਿਵਾਣਾ (D) ਅੰਮ੍ਰਿਤਾ ਪ੍ਰੀਤਮ
15. 'ਪਵਿੱਤਰ ਪਾਪੀ' ਕਿਸ ਦੀ ਰਚਨਾ ਹੈ ?
 (A) ਪ੍ਰੋ. ਪੂਰਨ ਸਿੰਘ
 (B) ਪ੍ਰੋ. ਮੋਹਨ ਸਿੰਘ
 (C) ਨਾਨਕ ਸਿੰਘ
 (D) ਗੁਰਦਿਆਲ ਸਿੰਘ ਪ੍ਰੀਤਲੜੀ
16. ਨਿਮਨਲਿਖਿਤ ਵਿੱਚੋਂ ਕਿਸ ਦੇਸ਼ ਨੇ ਬਹੁਤ ਵਾਰ ਵਿਸ਼ਵ ਫੁੱਟਬਾਲ ਕੱਪ ਜਿੱਤਿਆ ?
 (A) ਜਰਮਨੀ (B) ਇਟਲੀ
 (C) ਅਰਜਨਟੀਨਾ (D) ਬ੍ਰਾਜ਼ੀਲ

17. निम्नलिखित में से किसने 2016 रियो ओलंपिक में भारत के लिए कुश्ती (फ्रीस्टाइल) में कांस्य पदक जीता था ?
 (A) संदीप तोमर (B) साक्षी मलिक
 (C) विनेश फोगट (D) नरसिंह यादव
18. एक दिवसीय अंतर्राष्ट्रीय क्रिकेट में हैट्रिक विकेट कौन-से पहले भारतीय क्रिकेटर ने लिया था ?
 (A) रवि शास्त्री (B) कपिल देव
 (C) चेतन शर्मा (D) मनिंदर सिंह
19. गरबा _____ का लोकप्रिय नृत्य स्वरूप है ।
 (A) हरियाणा (B) हिमाचल प्रदेश
 (C) महाराष्ट्र (D) गुजरात
20. राष्ट्रीय नाट्य विद्यालय _____ में स्थित है ।
 (A) मुंबई (B) नई दिल्ली
 (C) कोलकाता (D) चेन्नई
21. उस्ताद बिस्मिल्लाह खान को _____ को लोकप्रिय बनाने का श्रेय दिया गया ।
 (A) शहनाई (B) सितार
 (C) सरोद (D) बांसुरी
22. भारत सरकार ने भारतीय समाज पंजीकरण अधिनियम, 1860 के तहत शैक्षिक परीक्षण के लिए किस एजेंसी के निर्माण को मंजूरी दी है ?
 (A) राष्ट्रीय शैक्षिक एजेंसी
 (B) राष्ट्रीय परीक्षण एजेंसी
 (C) राष्ट्रीय शिक्षा परीक्षण एजेंसी
 (D) राष्ट्रीय उच्चतर शिक्षा परीक्षण एजेंसी
23. जाकिर हुसैन समिति के संबंध में आधुनिक शिक्षा-सम्मिलित की योजना निम्नलिखित में से कौन-सी है ?
 (A) राष्ट्रीय शिक्षा आयोग (1964-1966)
 (B) शिक्षा पर राष्ट्रीय नीति (1986)
 (C) बुनियादी शिक्षा की वर्धा योजना (1937)
 (D) भारतीय शिक्षा आयोग (1882)
17. निम्नलिखित विੱਚੋਂ ਕਿਸ ਨੇ 2016 ਰੀਓ ਓਲੰਪਿਕ ਵਿੱਚ ਭਾਰਤ ਲਈ ਕੁਸ਼ਤੀ (ਫ੍ਰੀਸਟਾਇਲ) ਵਿੱਚ ਕਾਂਸੀ ਦਾ ਪਦਕ ਜਿੱਤਿਆ ?
 (A) ਸੰਦੀਪ ਤੋਮਰ (B) ਸਾਕਸ਼ੀ ਮਲਿਕ
 (C) ਵਿਨੇਸ਼ ਫੋਗਟ (D) ਨਰਸਿੰਘ ਯਾਦਵ
18. ਪਹਿਲਾ ਭਾਰਤੀ ਕ੍ਰਿਕੇਟਰ ਜਿਸ ਨੇ ਇੱਕ ਰੋਜ਼ਾ ਅੰਤਰਰਾਸ਼ਟਰੀ ਵਿਕਟ ਵਿੱਚ ਹੈਟ੍ਰਿਕ ਵਿਕਟ ਪ੍ਰਾਪਤ ਕੀਤੀ ਸੀ ?
 (A) ਰਵੀ ਸ਼ਾਸਤਰੀ (B) ਕਪਿਲ ਦੇਵ
 (C) ਚੇਤਨ ਸ਼ਰਮਾ (D) ਮਨਿੰਦਰ ਸਿੰਘ
19. ਗਰਬਾ _____ ਦਾ ਪ੍ਰਸਿੱਧ ਡਾਂਸ ਰੂਪ ਹੈ ।
 (A) ਹਰਿਆਣਾ (B) ਹਿਮਾਚਲ ਪ੍ਰਦੇਸ਼
 (C) ਮਹਾਰਾਸ਼ਟਰ (D) ਗੁਜਰਾਤ
20. ਡਰਾਮੇ ਦਾ ਰਾਸ਼ਟਰੀ ਸਕੂਲ _____ ਵਿੱਚ ਸਥਿਤ ਹੈ ।
 (A) ਮੁੰਬਈ (B) ਨਵੀਂ ਦਿੱਲੀ
 (C) ਕੋਲਕਾਤਾ (D) ਚੱਨਈ
21. ਉਸਤਾਦ ਬਿਸਮਿਲਾ ਖਾਨ ਨੂੰ _____ ਨੂੰ ਪ੍ਰਚਲਿਤ ਕਰਨ ਦਾ ਸਿਹਰਾ ਜਾਂਦਾ ਹੈ ।
 (A) ਸ਼ਹਿਨਾਈ (B) ਸਿਤਾਰ
 (C) ਸਰੋਦ (D) ਬੰਸਰੀ
22. ਭਾਰਤ ਸਰਕਾਰ ਨੇ ਇੰਡੀਅਨ ਸੁਸਾਇਟੀਜ਼ ਰਜਿਸਟ੍ਰੇਸ਼ਨ ਐਕਟ, 1860 ਦੇ ਤਹਿਤ ਕਿਸ ਏਜੰਸੀ ਦੇ ਨਿਰਮਾਣ ਨੂੰ ਸਿੱਖਿਆ ਪ੍ਰੀਖਣ ਦੀ ਪ੍ਰਵਾਨਗੀ ਦਿੱਤੀ ਹੈ ?
 (A) ਰਾਸ਼ਟਰੀ ਸਿੱਖਿਆ ਏਜੰਸੀ
 (B) ਰਾਸ਼ਟਰੀ ਜਾਂਚ ਏਜੰਸੀ
 (C) ਰਾਸ਼ਟਰੀ ਸਿੱਖਿਆ ਜਾਂਚ ਏਜੰਸੀ
 (D) ਰਾਸ਼ਟਰੀ ਉੱਚਤਰ ਸਿੱਖਿਆ ਜਾਂਚ ਏਜੰਸੀ
23. ਜ਼ਾਕਿਰ ਹੁਸੈਨ ਕਮੇਟੀ ਨਾਲ ਸਬੰਧਤ ਆਧੁਨਿਕ ਸਿੱਖਿਆ ਸਮਿਲਤ ਦੀ ਯੋਜਨਾ ਨਿਮਨਲਿਖਿਤ ਵਿੱਚੋਂ ਕਿਹੜੀ ਹੈ ?
 (A) ਰਾਸ਼ਟਰੀ ਸਿੱਖਿਆ ਆਯੋਗ (1964-1966)
 (B) ਸਿੱਖਿਆ 'ਤੇ ਰਾਸ਼ਟਰੀ ਨੀਤੀ (1986)
 (C) ਬੁਨਿਆਦੀ ਸਿੱਖਿਆ ਦੀ ਵਰਧਾ ਯੋਜਨਾ (1937)
 (D) ਭਾਰਤੀ ਸਿੱਖਿਆ ਆਯੋਗ (1882)

24. राष्ट्रीय उपलब्धि सर्वेक्षण (2017) _____ के छात्रों पर आयोजित किया गया था।
- (A) कक्षाएं I-V
(B) कक्षाएं VI-VIII
(C) कक्षाएं II, VI और VIII
(D) कक्षाएं III, V और VIII
25. भारत सरकार के मानव संसाधन विकास के यूनियन मंत्री कौन हैं ?
- (A) डॉ. सुब्रह्मण्यम जयशंकर
(B) श्रीमती स्मृति जुबिन ईरानी
(C) डॉ. रमेश पोखरियाल निशंक
(D) श्री प्रकाश जावड़ेकर
26. आर्मी स्टॉफ के वर्तमान भारतीय प्रधान कौन हैं ?
- (A) जनरल दलबीर सिंह
(B) जनरल बिपिन रावत
(C) जनरल बिक्रम सिंह
(D) जनरल विजय कुमार सिंह
27. आई.सी.सी.(I.C.C.) वर्ल्ड कप-2019 में अफगानिस्तान टीम का कप्तान कौन है ?
- (A) गुलबदीन नेब (B) मोहम्मद शहजाद
(C) असगर अफगान (D) राशिद खान
28. निम्नलिखित में से कौन-सी पहल भारत के आयकर विभाग का कर दाताओं के साथ सीधे संवाद करने का प्रयास है ?
- (A) स्वयं (B) स्वयं प्रभा
(C) आयकर सेतु (D) सुगम वर्ता
29. एक विषम का पता लगाएं :
- (A) इंटरनेट (B) लिनक्स
(C) यूनिक्स (D) विंडोज
30. निम्नलिखित में से किस पार्टी ने पाकिस्तान में 15 वीं राष्ट्रीय सभा का गठन किया ?
- (A) National People Party
(B) Pakistan Muslim League-Nawaz
(C) Pakistan Tehreek-e-Insaf
(D) Pakistan Peoples Party
24. ਰਾਸ਼ਟਰੀ ਉਪਲਬਧੀ ਸਰਵੇਖਨ (2017) _____ ਦੇ ਵਿਦਿਆਰਥੀਆਂ 'ਤੇ ਆਯੋਜਿਤ ਕੀਤਾ ਗਿਆ ਸੀ।
- (A) ਕਲਾਸਾਂ I-V
(B) ਕਲਾਸਾਂ VI-VIII
(C) ਕਲਾਸਾਂ II, VI ਅਤੇ VIII
(D) ਕਲਾਸਾਂ III, V ਅਤੇ VIII
25. ਭਾਰਤ ਸਰਕਾਰ ਦੇ ਮਨੁੱਖੀ ਸੰਸਾਧਨ ਵਿਕਾਸ ਦੇ ਯੂਨੀਅਨ ਮੰਤਰੀ ਕੌਣ ਹਨ ?
- (A) ਡਾ. ਸੁਬ੍ਰਾਹਮਨਯਮ ਜੈਸ਼ੰਕਰ
(B) ਸ਼੍ਰੀਮਤੀ ਸਮ੍ਰਿਤੀ ਜੁਬਿਨ ਈਰਾਨੀ
(C) ਡਾ. ਰਮੇਸ਼ ਪੋਖਰੀਅਲ 'ਨਿਸ਼ੰਕ'
(D) ਸ਼੍ਰੀ ਪ੍ਰਕਾਸ਼ ਜਾਵਦੇਕਰ
26. ਆਰਮੀ ਸਟਾਫ ਦੇ ਮੌਜੂਦਾ ਭਾਰਤੀ ਪ੍ਰਧਾਨ ਕੌਣ ਹਨ ?
- (A) ਜਨਰਲ ਦਲਬੀਰ ਸਿੰਘ
(B) ਜਨਰਲ ਬਿਪਿਨ ਰਾਵਤ
(C) ਜਨਰਲ ਬਿਕਰਮ ਸਿੰਘ
(D) ਜਨਰਲ ਵਿਜੈ ਕੁਮਾਰ ਸਿੰਘ
27. ਆਈ. ਸੀ. ਸੀ. (I.C.C.) ਵਿਸ਼ਵ ਕੱਪ-2019 ਵਿੱਚ ਅਫਗਾਨਿਸਤਾਨ ਟੀਮ ਦਾ ਕਪਤਾਨ ਕੌਣ ਹੈ ?
- (A) ਗੁਲਬਦੀਨ ਨੇਬ (B) ਮੁਹੰਮਦ ਸ਼ਹਿਜ਼ਾਦ
(C) ਅਸਗਰ ਅਫਗਾਨ (D) ਰਸ਼ੀਦ ਖਾਨ
28. ਨਿਮਨਲਿਖਿਤ ਵਿੱਚੋਂ ਕਿਹੜੀ ਪਹਲ ਭਾਰਤ ਦੇ ਆਯਕਰ ਵਿਭਾਗ ਦਾ ਕਰ ਦਾਤਾਵਾਂ ਦੇ ਨਾਲ ਸਿਧੇ ਸੰਵਾਦ ਕਰਨ ਲਈ ਇੱਕ ਕੋਸ਼ਿਸ਼ ਹੈ ?
- (A) ਸਵਅਮ (B) ਸਵਅਮ ਪ੍ਰਭਾ
(C) ਆਯਕਰ ਸੇਤੁ (D) ਸੁਗਮ ਵਰਾਰ
29. ਬਿਖਮ ਦਾ ਪਤਾ ਲਗਾਓ :
- (A) ਇੰਟਰਨੈੱਟ (B) ਲਿੰਕਸ
(C) ਯੂਨੀਕਸ (D) ਵਿੰਡੋਜ਼
30. ਨਿਮਨਲਿਖਿਤ ਵਿੱਚੋਂ ਕਿਸ ਪਾਰਟੀ ਨੇ ਪਾਕਿਸਤਾਨ ਵਿੱਚ 15ਵੀਂ ਨੈਸ਼ਨਲ ਅਸੈਂਬਲੀ ਬਣਾਈ ?
- (A) National People Party
(B) Pakistan Muslim League-Nawaz
(C) Pakistan Tehreek-e-Insaf
(D) Pakistan Peoples Party

31. शिक्षण अधिक प्रभावी होगा यदि शिक्षक :
- (A) अपने इरादे को उद्देश्यपूर्ण बनाता है
(B) विषय का मास्टर है
(C) विभिन्न निर्देशात्मक सहायता का उपयोग करता है
(D) शुरुआत में अपने उद्देश्यों की घोषणा करता है
32. एक शिक्षक जो अपने छात्रों का ध्यान आकर्षित करने में सक्षम नहीं है :
- (A) अपनी शिक्षण पद्धति का मूल्यांकन करें और उसे सुधारें
(B) पद से इस्तीफा दें
(C) अपने छात्रों में दोष खोजें
(D) तानाशाही करना शुरू करें
33. दूरस्थ शिक्षा का अर्थ है :
- (A) दूर उपलब्ध कराई गई शिक्षा
(B) शिक्षा उन लोगों के लिए प्रदान की जाती है जो स्कूल नहीं जा सकते
(C) शिक्षार्थी हेतु घर तक शिक्षा
(D) लोगों की सेवा के लिए शिक्षा
34. स्कूल स्तरीय ETV कार्यक्रम इनके द्वारा प्रस्तुत किए जाते हैं :
- (A) CIET (B) EICT
(C) CITE (D) ETCE
35. दूरदर्शन का शैक्षिक टेलीविज़न चैनल निम्नलिखित में से कौन-सा है ?
- (A) गुरुकुल (B) ज्ञान भारती
(C) ज्ञान दर्शन (D) विद्या
36. निम्नलिखित में से कौन-सा एक ऑडियो-विजुअल का साधन है ?
- (A) रेडियो (B) टेप-रिकॉर्डर
(C) टेलीविज़न (D) प्रोजेक्टर
37. भारतीय शिक्षा आयोग, 1966 का महत्व है :
- (A) मूल्य अनुस्थापन
(B) धार्मिक अनुस्थापन
(C) लोकतांत्रिक मूल्य का उत्थान
(D) उपरोक्त में से कोई नहीं
31. टीचिंग अपिक् प्रभावशाली होवेगी अगर अध्यापक :
- (A) उसका इरादा उद्देश्यपूर्ण वाला है
(B) विज्ञे का मालक है
(C) वॉ-वॉखरे सहायिक निदेशों की वरतों करता है
(D) शुरुआत विंच उसदे उद्देशों की घोषणा करता है
32. ईक अध्यापक जिहड़ा आपडे विद्याभारथीआं दा धिआन किंचन दे जेग नहीं है :
- (A) आपटी सिंथिआ विपी दा मुलांकन करे अडे उसनुं सुधारे
(B) पद तें असतीफा देवे
(C) आपडे विद्याभारथीआं विंच नुकस लंबे
(D) तानाशाही करना शुरु करे
33. दूर की सिंथिआ दा अरथ है :
- (A) सिंथिआ दूरी तें प्रदान कीती गਈ
(B) उनुं लेंकं लਈ सिंथिआ दिंती ज़ांती हैजिहडे सकूल नहीं जा सकदे
(C) सिंथिआरथी दे दरवाजे दे पड़ाअ तें सिंथिआ
(D) लेंकं की सेवा लਈ सिंथिआ
34. सकूल पंथर दे ETV प्रोग्राम इस दुआरा हाजर कीते ज़ांते हन ?
- (A) CIET (B) EICT
(C) CITE (D) ETCE
35. निमनलिखित विंचें किहड़ा दूरदरसन दा सिंथिआ टैलीविजन चैनल है ?
- (A) गुरुकुल (B) गिआन भारती
(C) गिआन दरसन (D) विंदिआ
36. निमनलिखित विंचें किहड़ा आडीऑ-विजुअल दा साधन है ?
- (A) रेडीऑ (B) टेप-रिकारडर
(C) टैलीविजन (D) प्रोजेक्टर
37. भारती सिंथिआ आजेग, 1966 दा महत्व है :
- (A) मूल अनुस्थापन
(B) धारमिक अनुस्थापन
(C) लोकतंत्रिक मूल दा उथान
(D) उपरोक्त विंचें केंडी वी नहीं

38. भारत एक है।
- (A) प्रभुता सम्पन्न लोकतंत्रात्मक समाजवादी गणराज्य
(B) प्रभुता सम्पन्न समाजवादी धर्मनिरपेक्ष गणराज्य
(C) प्रभुता सम्पन्न लोकतंत्रात्मक गणराज्य
(D) प्रभुता सम्पन्न समाजवादी धर्मनिरपेक्ष लोकतंत्रात्मक गणराज्य
39. 'भारत के संविधान' के रूप में शिक्षा में प्रविष्टि का अधिकार होता है :
- (A) समवर्ती सूची का (B) राज्य सूची का
(C) केंद्र सूची का (D) इनमें से कोई नहीं
40. निःशुल्क और अनिवार्य प्राथमिक शिक्षा पहली बार किसने शुरू की ?
- (A) गोपाल कृष्ण गोखले
(B) एम.के. गांधी
(C) एन.पी.ई. (N.P.E.) 1968
(D) प्राथमिक शिक्षा आयोग
41. अंग्रेजों के समय में खोला जाने वाला पहला विश्वविद्यालय कौन-सा था ?
- (A) बॉम्बे विश्वविद्यालय (B) अलीगढ़ विश्वविद्यालय
(C) कलकत्ता विश्वविद्यालय (D) हैदराबाद विश्वविद्यालय
42. पंजाब विश्वविद्यालय को चंडीगढ़ में स्थानांतरित कर दिया गया था :
- (A) 1942 (B) 1950
(C) 1956 (D) 1962
43. किसने कहा, "एक लैम्प कभी भी दूसरे लैम्प को जला नहीं सकता है जब तक कि उसकी लौ जलती नहीं है" ?
- (A) एम.के. गांधी (B) रवीन्द्र नाथ टैगोर
(C) रूसो (D) प्लेटो
44. एक रचनात्मक शिक्षक यह कर सकता है :
- (A) कविताओं और कहानियों का संवाद
(B) चित्र की रचना
(C) कहानियों का वर्णन
(D) छात्रों की सोचने की क्षमता को विकसित
38. ਭਾਰਤ ਇੱਕ _____ ਹੈ।
- (A) ਪ੍ਰਭੂਤਾ ਸੰਪੰਨ, ਲੋਕਤੰਤ੍ਰਾਤਮਕ ਸਮਾਜਵਾਦੀ ਗਣਰਾਜ
(B) ਪ੍ਰਭੂਤਾ ਸੰਪੰਨ, ਸਮਾਜਵਾਦੀ ਧਰਮਨਿਰਪੇਖ ਗਣਰਾਜ
(C) ਪ੍ਰਭੂਤਾ ਸੰਪੰਨ ਲੋਕਤੰਤ੍ਰਾਤਮਕ ਗਣਰਾਜ
(D) ਪ੍ਰਭੂਤਾ ਸੰਪੰਨ ਸਮਾਜਵਾਦੀ ਧਰਮਨਿਰਪੇਖ ਲੋਕਤੰਤ੍ਰਾਤਮਕ ਗਣਰਾਜ
39. 'ਭਾਰਤ ਦੇ ਸੰਵਿਧਾਨ' ਦੇ ਰੂਪ ਵਿੱਚ ਸਿੱਖਿਆ ਦੇ ਵਿੱਚ ਪ੍ਰਵੇਸ਼ ਦਾ ਅਧਿਕਾਰ ਹੁੰਦਾ ਹੈ :
- (A) ਸਮਵਰਤੀ ਸੂਚੀ ਵਿੱਚ (B) ਰਾਜ ਸੂਚੀ ਵਿੱਚ
(C) ਕੇਂਦਰ ਸੂਚੀ ਵਿੱਚ (D) ਇਨ੍ਹਾਂ ਵਿੱਚੋਂ ਕੋਈ ਨਹੀਂ
40. ਪਹਿਲੀ ਵਾਰ ਮੁਫਤ ਅਤੇ ਲਾਜ਼ਮੀ ਪ੍ਰਾਇਮਰੀ ਸਿੱਖਿਆ ਕਿਸਨੇ ਸ਼ੁਰੂ ਕੀਤੀ ?
- (A) ਗੋਪਾਲ ਕ੍ਰਿਸ਼ਨ ਗੋਖਲੇ
(B) ਐੱਮ. ਕੇ. ਗਾਂਧੀ
(C) ਐਨ. ਪੀ. ਈ. (N.P.E.) 1968
(D) ਪ੍ਰਾਇਮਰੀ ਸਿੱਖਿਆ ਆਯੋਗ
41. ਬ੍ਰਿਟਿਸ਼ ਦੇ ਸਮੇਂ ਕਿਹੜੀ ਪਹਿਲੀ ਯੂਨੀਵਰਸਿਟੀ ਖੋਲੀ ਜਾਣੀ ਸੀ ?
- (A) ਬੰਬਈ ਯੂਨੀਵਰਸਿਟੀ
(B) ਅਲੀਗੜ੍ਹ ਯੂਨੀਵਰਸਿਟੀ
(C) ਕਲਕੱਤਾ ਯੂਨੀਵਰਸਿਟੀ
(D) ਹੈਦਰਾਬਾਦ ਯੂਨੀਵਰਸਿਟੀ
42. ਪੰਜਾਬ ਯੂਨੀਵਰਸਿਟੀ ਚੰਡੀਗੜ੍ਹ ਵਿੱਚ ਤਬਦੀਲ ਕਰ ਦਿੱਤੀ ਗਈ ਸੀ :
- (A) 1942 (B) 1950
(C) 1956 (D) 1962
43. ਕਿਸਨੇ ਕਿਹਾ, "ਇੱਕ ਦੀਵਾ ਕਦੇ ਵੀ ਦੂਸਰੇ ਦੀਵੇ ਨੂੰ ਜਲਾ ਨਹੀਂ ਸਕਦਾ, ਜਦ ਤਕ ਉਸਦੀ ਲਾਟ ਜਲਦੀ ਨਹੀਂ ਹੈ" ?
- (A) ਐੱਮ. ਕੇ. ਗਾਂਧੀ (B) ਰਬਿੰਦਰ ਨਾਥ ਟੈਗੋਰ
(C) ਰੂਸੋ (D) ਪਲੇਟੋ
44. ਇੱਕ ਰਚਨਾਤਮਕ ਅਧਿਆਪਕ ਇਹ ਕਰ ਸਕਦਾ ਹੈ :
- (A) ਕਵਿਤਾਵਾਂ ਅਤੇ ਕਹਾਣੀਆਂ ਦਾ ਸੰਵਾਦ
(B) ਚਿੱਤਰ ਦੀ ਰਚਨਾ
(C) ਕਹਾਣੀਆਂ ਦਾ ਵਰਨਣ
(D) ਵਿਦਿਆਰਥੀਆਂ ਦੀ ਸੋਚਣ ਦੀ ਸਮਰੱਥਾ ਵਿਕਸਿਤ

45. यदि कक्षा में कुछ छात्र नशे का सेवन करते पाए जाते हैं, तो शिक्षक को करना चाहिए :
- (A) पुलिस को सूचित
(B) हेडमास्टर को सूचित
(C) उन्हें ठीक से सलाह
(D) उन्हें दंडित
46. शिक्षक के सम्मुख पूर्ण रूप से स्कूल की समस्या को हल करने के लिए कौन-सी विधि उपयुक्त है ?
- (A) कार्य शोध (B) सर्वेक्षण विधि
(C) ऐतिहासिक विधि (D) वर्णनात्मक विधि
47. अपनी कक्षा में गैर-सामाजिक बच्चों की पहचान करने के लिए, आप एक शिक्षक के रूप में किसका उपयोग करेंगे ?
- (A) योग्यता परीक्षण
(B) सामाजिक-दूरात्मक परीक्षण
(C) पी.क्यू. परीक्षण
(D) उपलब्धि परीक्षण
48. कक्षा में पढ़ाते समय भिन्न-भिन्न वर्गों के बच्चे बैठे हो, तो अध्यापक को किस विधि का अनुकरण करना चाहिए ?
- (A) लेक्चर विधि (B) प्रदर्शन विधि
(C) परियोजना विधि (D) लेक्चर सह प्रदर्शन विधि
49. छात्रों के साथ शिक्षक का संबंध होना चाहिए :
- (A) औपचारिक (B) अनौपचारिक
(C) स्नेही (D) व्यावसायिक
50. पेशे की सफलता इस पर निर्भर करती है :
- (A) व्यक्तियों को खुश करने की नीति
(B) लोगों के साथ संबंध बनाए रखना
(C) कार्य की गुणवत्ता बनाए रखना
(D) वरिष्ठों के प्रति वफादारी
51. आपके विद्यालय के अधिकांश शिक्षक चाहते हैं कि आप कर्मचारी सचिव बनें। आप बहुत ज्यादा आत्मविश्वासी नहीं हैं। इस प्रस्ताव पर आपकी क्या प्रतिक्रिया होगी ?
- (A) उन्हें रूखे ढंग से कहेंगे कि आप इसे नहीं लेंगे
(B) उन्हें बताएंगे कि आप योग्य व्यक्ति नहीं हैं
(C) सभी मामलों में उनके सहयोग की चुनौती को स्वीकार करेंगे
(D) इसके बदले अन्य किसी का नाम सुझाएंगे
45. ਜੇ ਕਲਾਸ ਵਿਚ ਕੁਝ ਵਿਦਿਆਰਥੀ ਨਸ਼ੇ ਕਰਦੇ ਪਾਏ ਜਾਂਦੇ ਹਨ, ਤਾਂ ਅਧਿਆਪਕ ਨੂੰ ਇਹ ਕਰਨਾ ਚਾਹੀਦਾ ਹੈ :
- (A) ਪੁਲਿਸ ਨੂੰ ਸੂਚਿਤ ਕਰੋ
(B) ਹੈਡਮਾਸਟਰ ਨੂੰ ਸੂਚਿਤ ਕਰੋ
(C) ਉਹਨਾਂ ਨੂੰ ਸਹੀ ਢੰਗ ਨਾਲ ਸਲਾਹ ਦਿਓ
(D) ਉਹਨਾਂ ਨੂੰ ਦੰਡ ਦਿਓ
46. ਅਧਿਆਪਕ ਦੇ ਸਾਹਮਣੇ ਪੂਰਨ ਰੂਪ ਤੋਂ ਸਕੂਲ ਦੀ ਸਮੱਸਿਆ ਦਾ ਹੱਲ ਕਰਨ ਲਈ ਕਿਹੜਾ ਤਰੀਕਾ ਉਪਯੁਕਤ ਹੈ ?
- (A) ਕਾਰਜ ਸ਼ੋਧ (B) ਸਰਵੇਖਣ ਵਿਧੀ
(C) ਇਤਿਹਾਸਕ ਵਿਧੀ (D) ਵਿਆਖਿਆਕਾਰੀ ਵਿਧੀ
47. ਆਪਣੀ ਕਲਾਸ ਵਿੱਚ ਗੈਰ-ਸਮਾਜਿਕ ਬੱਚਿਆਂ ਦੀ ਪਹਿਚਾਣ ਲਈ, ਤੁਸੀਂ ਇੱਕ ਅਧਿਆਪਕ ਦੇ ਰੂਪ ਵਿੱਚ ਕਿਸਦਾ ਉਪਯੋਗ ਕਰੋਗੇ ?
- (A) ਯੋਗਤਾ ਪਰੀਖਣ
(B) ਸਮਾਜ-ਦੂਰਾਤਮਕ ਪਰੀਖਣ
(C) ਪੀ. ਕੀਊ. ਪਰੀਖਣ
(D) ਉਪਲੱਬਧੀ ਪਰੀਖਣ
48. ਕਲਾਸ ਵਿੱਚ ਪੜ੍ਹਾਉਣ ਵੇਲੇ ਵੱਖ-ਵੱਖ ਵਰਗਾਂ ਦੇ ਬੱਚੇ ਬੈਠੇ ਹੋਣ, ਤਾਂ ਅਧਿਆਪਕ ਨੂੰ ਕਿਹੜੀ ਵਿਧੀ ਦੀ ਵਰਤੋਂ ਕਰਨੀ ਚਾਹੀਦੀ ਹੈ ?
- (A) ਲੈਕਚਰ ਵਿਧੀ
(B) ਪ੍ਰਦਰਸ਼ਨ ਵਿਧੀ
(C) ਵਿਉਂਤ ਵਿਧੀ
(D) ਲੈਕਚਰ ਸਹਿ-ਪ੍ਰਦਰਸ਼ਨ ਵਿਧੀ
49. ਵਿਦਿਆਰਥੀਆਂ ਨਾਲ ਅਧਿਆਪਕ ਦਾ ਸਬੰਧ ਹੋਣਾ ਚਾਹੀਦਾ ਹੈ :
- (A) ਰਸਮੀ (B) ਗੈਰ-ਰਸਮੀ
(C) ਪ੍ਰੇਮੀ (D) ਪੇਸ਼ਾਵਰ
50. ਪੇਸ਼ੇ ਦੀ ਸਫਲਤਾ ਇਸ 'ਤੇ ਨਿਰਭਰ ਕਰਦੀ ਹੈ :
- (A) ਵਿਅਕਤੀਆਂ ਨੂੰ ਖੁਸ਼ ਕਰਨ ਦੀ ਨੀਤੀ
(B) ਲੋਕਾਂ ਨਾਲ ਸਬੰਧ ਬਣਾਈ ਰੱਖਣਾ
(C) ਕਾਰਜ ਦੀ ਗੁਣਵੱਤਾ ਨੂੰ ਕਾਇਮ ਰੱਖਣਾ
(D) ਵੱਡਿਆਂ ਦੇ ਪ੍ਰਤੀ ਵਫਾਦਾਰੀ
51. ਤੁਹਾਡੇ ਸਕੂਲ ਦੇ ਬਹੁਤੇ ਅਧਿਆਪਕ ਚਾਹੁੰਦੇ ਹਨ ਕਿ ਤੁਸੀਂ ਸਟਾਫ ਸਕੱਤਰ ਬਣੋ। ਤੁਸੀਂ ਬਹੁਤ ਆਤਮ-ਵਿਸ਼ਵਾਸੀ ਨਹੀਂ ਹੋ। ਇਸ ਪ੍ਰਸਤਾਵ ਤੇ ਤੁਹਾਡੀ ਕੀ ਪ੍ਰਤੀਕਿਰਿਆ ਹੋਵੇਗੀ ?
- (A) ਉਹਨਾਂ ਨੂੰ ਉਤਸੁਕਤਾ ਦੱਸੋ, ਤਾਂ ਕਿ ਤੁਸੀਂ ਇਸ ਨੂੰ ਨਾ ਲਓ
(B) ਉਨ੍ਹਾਂ ਨੂੰ ਦੱਸੋਗੇ ਕਿ ਤੁਸੀਂ ਢੁੱਕਵੇਂ ਵਿਅਕਤੀ ਨਹੀਂ ਹੋ
(C) ਸਾਰੇ ਮਾਮਲਿਆਂ ਵਿੱਚ ਉਨ੍ਹਾਂ ਦੇ ਸਹਿਯੋਗ ਦੀ ਚੁਣੌਤੀ ਨੂੰ ਸਵਿਕਾਰ ਕਰੋਗੇ
(D) ਇਸਦੇ ਬਦਲੇ ਕਿਸੇ ਹੋਰ ਦਾ ਨਾਮ ਸੁਝਾਓਗੇ

52. निम्नलिखित में से किस विधि से छात्रों का सही मूल्यांकन संभव है ?
- (A) औपचारिक मूल्यांकन
(B) सतत् मूल्यांकन
(C) एक वर्ष में दो बार मूल्यांकन
(D) पाठ्यक्रम के अंत में मूल्यांकन
53. आंतरिक निर्धारण अच्छा है क्योंकि :
- (A) छात्र शिक्षक से डरते हैं
(B) यह कक्षा की ओर ध्यान देने वाले उद्देश्यों को प्रबलता देता है
(C) केवल शिक्षक ही छात्रों की प्रगति और प्रदर्शन को जानता है
(D) यह कुल स्कोर में सुधार करता है
54. सतत् और व्यापक मूल्यांकन की विशेषताएं क्या है :
- (A) यह श्रेणी के साथ अंक बदलता है
(B) यह परीक्षा के डर को कम करने में मदद करता है
(C) यह छात्र के हर पहलू का मूल्यांकन करता है
(D) उपरोक्त सभी
55. पुस्तकालय छात्र के विकास में मदद करता है :
- (A) पुस्तकों के प्रति प्यार (B) समझ की क्षमता
(C) व्यक्तिगत संबंध (D) मैत्रीपूर्ण दायरा
56. शिक्षकों के लिए किताबें जारी की जानी चाहिए :
- (A) एक सप्ताह (B) एक महीना
(C) छह महीने (D) एक वर्ष
57. संदर्भ पुस्तक से आप क्या समझते हैं ?
- (A) ऐसी पुस्तक जारी नहीं की जा सकती है
(B) ऐसी पुस्तक को पुस्तकालय के बाहर नहीं निकाला जा सकता है
(C) ऐसी पुस्तक केवल पुस्तकालय में पढ़ी जा सकती है
(D) उपरोक्त सभी
52. निम्नलिखित तथ्यांकों में से किस विधि द्वारा छात्रों का सही मूल्यांकन संभव है ?
- (A) रचनात्मक मूल्यांकन
(B) निरंतर मूल्यांकन
(C) एक साल में दो बार मूल्यांकन
(D) कोर्स के अंत में मूल्यांकन
53. अंतर्गत मूल्यांकन क्या है ?
- (A) विद्यार्थी अविद्यार्थियों से डरते हैं
(B) यह कक्षा में ध्यान देने वाले उद्देश्यों को प्रबलता देता है
(C) केवल शिक्षक ही छात्रों की प्रगति और प्रदर्शन को जानता है
(D) यह कुल स्कोर में सुधार करता है
54. निरंतर अथवा व्यापक मूल्यांकन की विशेषताएं क्या हैं ?
- (A) यह श्रेणी के साथ अंक बदलता है
(B) यह परीक्षा के डर को कम करने में मदद करता है
(C) यह छात्र के हर पहलू का मूल्यांकन करता है
(D) उपरोक्त सभी
55. पुस्तकालय छात्र के विकास में मदद करता है :
- (A) पुस्तकों के प्रति प्यार (B) समझ की क्षमता
(C) व्यक्तिगत संबंध (D) मैत्रीपूर्ण दायरा
56. शिक्षकों के लिए किताबें जारी की जानी चाहिए :
- (A) एक सप्ताह (B) एक महीना
(C) छह महीने (D) एक वर्ष
57. संदर्भ पुस्तक से आप क्या समझते हैं ?
- (A) ऐसी पुस्तक जारी नहीं की जा सकती है
(B) ऐसी पुस्तक को पुस्तकालय के बाहर नहीं निकाला जा सकता है
(C) ऐसी पुस्तक केवल पुस्तकालय में पढ़ी जा सकती है
(D) उपरोक्त सभी

58. NSS का उद्देश्य है :
- (A) छात्रों को प्रवेश पाने में मदद करना
(B) श्रम के सम्मान को विकसित करना
(C) छात्रों को व्यस्त करना
(D) समाज का विकास करना
59. परिवार इसका एक साधन है :
- (A) अनौपचारिक शिक्षा का (B) औपचारिक शिक्षा का
(C) गैर-औपचारिक शिक्षा का (D) दूरस्थ शिक्षा का
60. स्कूल शब्द की उत्पत्ति किससे हुई है :
- (A) ग्रीक (B) फ्रेंच
(C) लैटिन (D) अंग्रेजी
61. दी गई श्रृंखला में से अगला नंबर किसका आएगा ?
17, 13, 11, 7, 5, 1 ?
- (A) 1 (B) 2
(C) 0 (D) -1
62. निम्नलिखित श्रृंखला में से लुप्त संख्या ढुंढे :
240, _____ 120, 40, 10, 2
- (A) 480 (B) 240
(C) 220 (D) 126
63. निम्नलिखित श्रृंखला में से गलत अंक का पता लगाएं :
7, 19, 17, 42, 91, 172, 297
- (A) 9 (B) 91
(C) 42 (D) 172
64. वह शब्द ढुंढे जो अन्य शब्दों के समान कम से कम है :
- (i) ज़ेबरा
(ii) शेर
(iii) टाइगर
(iv) घोड़ा
(v) जिराफ़
- (A) (i) (B) (iii)
(C) (iv) (D) (v)
58. ਐਨ. ਐਸ. ਐਸ. (NSS) ਦਾ ਉਦੇਸ਼ ਹੈ :
- (A) ਵਿਦਿਆਰਥੀਆਂ ਨੂੰ ਦਾਖਲਾ ਲੈਣ ਵਿੱਚ ਸਹਾਇਤਾ ਕਰਨਾ
(B) ਕਿਰਤ ਦੇ ਮਾਣ ਨੂੰ ਵਿਕਸਿਤ ਕਰਨਾ
(C) ਵਿਦਿਆਰਥੀਆਂ ਨੂੰ ਰੁੱਝੇ ਕਰਨਾ
(D) ਸਮਾਜ ਦਾ ਵਿਕਾਸ ਕਰਨਾ
59. ਪਰਿਵਾਰ ਇਸਦਾ ਇੱਕ ਸਾਧਨ ਹੈ :
- (A) ਗੈਰ-ਰਸਮੀ ਸਿੱਖਿਆ ਦਾ (B) ਰਸਮੀ ਸਿੱਖਿਆ ਦਾ
(C) ਗੈਰ-ਰਸਮੀ ਸਿੱਖਿਆ ਦਾ (D) ਦੂਰਸਥ ਸਿੱਖਿਆ ਦਾ
60. ਸਕੂਲ ਸ਼ਬਦ ਦੀ ਉਤਪਤੀ ਕਿਸ ਵਿੱਚ ਹੋਈ ਹੈ ?
- (A) ਯੂਨਾਨੀ (ਗਰੀਕ) (B) ਫਰੈਂਚ
(C) ਲਾਤੀਨੀ (D) ਅੰਗ੍ਰੇਜ਼ੀ
61. ਅੱਗੇ ਦਿੱਤੀ ਲੜੀ ਵਿੱਚ ਕਿਹੜਾ ਨੰਬਰ ਆਉਂਦਾ ਹੈ ?
17, 13, 11, 7, 5, 1 ?
- (A) 1 (B) 2
(C) 0 (D) -1
62. ਨਿਮਨਲਿਖਿਤ ਲੜੀ ਵਿੱਚ ਗੁੰਮ ਨੰਬਰ ਲੱਭੋ :
240, _____ 120, 40, 10, 2
- (A) 480 (B) 240
(C) 220 (D) 126
63. ਨਿਮਨਲਿਖਿਤ ਲੜੀ ਵਿੱਚੋਂ ਗਲਤ ਲੱਭੋ :
7, 19, 17, 42, 91, 172, 297
- (A) 9 (B) 91
(C) 42 (D) 172
64. ਉਹ ਸ਼ਬਦ ਲੱਭੋ ਜੋ ਘੱਟ ਤੋਂ ਘੱਟ ਦੂਜੇ ਸ਼ਬਦਾਂ ਵਰਗੇ ਹੋਣ :
- (i) ਜ਼ੈਬਰਾ
(ii) ਸ਼ੇਰ
(iii) ਟਾਈਗਰ
(iv) ਘੋੜਾ
(v) ਜ਼ਿਰਾਫ਼
- (A) (i) (B) (iii)
(C) (iv) (D) (v)

65. उस जोड़ी को चुनें, जो अन्य चार जोड़ियों से संबंधित होने के कारण अलग है :
- (i) सोना : गहने
(ii) कपड़ा : वस्त्र
(iii) लकड़ी : फर्नीचर
(iv) चमड़ा : जूते
(v) सिट्टी के बर्तन : सिट्टी
- (A) (v) (B) (iii)
(C) (ii) (D) (i)
66. अक्षरों के ग्राफ में से ढुंढे जो अन्य तीन से अलग हैं :
- (A) USNIKB (B) VTOJE
(C) UPKEA (D) UMIDB
67. पहले दो के बीच संबंध के आधार पर प्रश्न चिह्न (?) बदलें :
पक्षीविज्ञानी : पक्षी :: मानवविज्ञानी : ?
- (A) पशु (B) कीड़े
(C) खनिज (D) मानव जाति
68. चार विकल्पों के बीच शब्दों की जोड़ी का पता लगाएं, जो दिए गए जोड़े के संबंध के समान है :
पौधा : पेड़ :: _____ : _____
- (A) घोड़ा : घोड़ी (B) छात्र : शिक्षक
(C) कली : फूल (D) पेड़ : फर्नीचर
69. रिक्त स्थान भरने के लिए उपयुक्त जोड़ीदार शब्द चुनें :
_____ का चाचा से संबंध है। वैसे ही माँ का संबंध _____ से है।
- (A) भाई, परवरिश (B) पिता, चाची
(C) चचेरा, सुंदर (D) चाची, पिता
70. सहमत के सर्वाधिक विपरीत अर्थ वाले शब्द का पता लगाएं :
- (A) एहसान करना (B) अनिच्छा
(C) विचलित (D) निर्धारित
71. 'पलायन' के समान अर्थ वाले शब्द का पता लगाएं :
- (A) निकास (B) छुट्टी
(C) स्वतंत्रता (D) काल्पनिक
65. ਉਸ ਜੋੜੀ ਨੂੰ ਚੁਣੋ, ਜੋ ਕਿ ਦੂਜੇ ਚਾਰ ਜੋੜਿਆਂ ਤੋਂ ਸੰਬੰਧਿਤ ਹੋਣ ਦੇ ਕਾਰਣ ਵੱਖਰੇ ਹਨ :
- (i) ਸੋਨਾ : ਗਹਿਣੇ
(ii) ਕਪੜਾ : ਵਸਤਰ
(iii) ਲਕੜੀ : ਫਰਨੀਚਰ
(iv) ਚਮੜਾ : ਜੂਤੇ
(v) ਮਿੱਟੀ ਦੇ ਬਰਤਨ : ਮਿੱਟੀ
- (A) (v) (B) (iii)
(C) (ii) (D) (i)
66. ਅੱਖਰਾਂ ਦਾ ਗ੍ਰਾਫ ਲੱਭੋ ਜੋ ਦੂਜੇ ਤਿੰਨ ਤੋਂ ਵੱਖਰੇ ਹਨ ?
- (A) USNIKB (B) VTOJE
(C) UPKEA (D) UMIDB
67. ਪਹਿਲੇ ਦੋ ਦੇ ਵਿਚਕਾਰ ਦੇ ਸੰਬੰਧਾਂ ਦੇ ਆਧਾਰ ਤੋਂ ਪ੍ਰਸ਼ਨ ਚਿੰਨ੍ਹ (?) ਬਦਲੋ :
ਪੰਛੀ ਵਿਗਿਆਨੀ : ਪੰਛੀ :: ਮਾਨਵ ਵਿਗਿਆਨੀ ?
- (A) ਜਾਨਵਰ (B) ਕੀੜੇ
(C) ਖਨਿਜ (D) ਮਾਨਵ-ਜਾਤਿ
68. ਚਾਰ ਵਿਕਲਪਾਂ ਵਿੱਚੋਂ ਸ਼ਬਦਾਂ ਦੀ ਜੋੜੀ ਲੱਭੋ, ਜਿਹਨਾਂ ਦਾ ਇਕੋ ਜਿਹਾ ਸੰਬੰਧ ਹੈ ਜੋ ਦਿੱਤੇ ਗਏ ਜੋੜਿਆਂ ਵਿੱਚ ਹੈ :
ਪੌਧਾ : ਦਰਖਤ :: _____ : _____
- (A) ਘੋੜਾ : ਘੋੜੀ (B) ਵਿਦਿਆਰਥੀ : ਟੀਚਰ
(C) ਕਲੀ : ਫੁੱਲ (D) ਪੇੜ : ਫਰਨੀਚਰ
69. ਖਾਲੀ ਥਾਵਾਂ ਨੂੰ ਭਰਨ ਲਈ ਢੁੱਕਵੇਂ ਜੋੜਿਆਂ ਦੀ ਚੋਣ ਕਰੋ :
_____ ਚਾਚਾ ਦੇ ਨਾਲ ਸੰਬੰਧ ਹੈ। ਉਸੇ ਤਰ੍ਹਾਂ ਮਾਂ ਦਾ ਸੰਬੰਧ _____ ਨਾਲ ਹੈ।
- (A) ਭਰਾ, ਪਰਵਰਿਸ਼ (B) ਪਿਤਾ, ਚਾਚੀ
(C) ਚਚੇਰਾ, ਸੁੰਦਰ (D) ਚਾਚੀ, ਪਿਤਾ
70. ਵਿਲਿੰਗ ਦਾ ਸਭ ਤੋਂ ਵੱਧ ਉਲਟ ਅਰਥ ਕੱਢਣ ਵਾਲਾ ਸ਼ਬਦ ਲੱਭੋ :
- (A) ਅਹਿਸਾਨ ਕਰਨਾ (B) ਅਨਿਚਛਾ
(C) ਵਿਚਲਿਤ (D) ਨਿਰਧਾਰਿਤ
71. ਪਲਾਯਨ ਦੇ ਸਮਾਨ ਅਰਥ ਵਾਲੇ ਸ਼ਬਦ ਦਾ ਪਤਾ ਲੱਭੋ :
- (A) ਨਿਕਾਸ (B) ਛੁੱਟੀ
(C) ਸਵਤੰਤਰਤਾ (D) ਕਾਲਪਨਿਕ

72. यदि SEND-MONEY को QCLB-KMLCW के रूप में सांकेतिक किया जाता है, तो पहले और अंतिम अक्षर MOST-SECRET में समान सांकेतिक क्या होंगे ?

- (A) R, K (B) K, R
(C) O, V (D) V, U

73. यदि :

- (i) 'कुओ कुई हीर का अर्थ है' लड़का अच्छा है'
(ii) 'लाइ कुओ मेया का अर्थ है' मीना अच्छी है'
(iii) 'रुओ लेव मेया का अर्थ है' सभी अच्छे हैं'
(iv) 'सी है कुई' का अर्थ कुत्ता अच्छा था'

निम्नलिखित में से कौन-सा शब्द लड़के के लिए है ?

- (A) कुओ (Quo) (B) कुई (Cui)
(C) हीर (Heer) (D) लाइ (Lai)

74. यदि 'UNDERSTAND' को 1234567823 के रूप में सांकेतिक किया जाता है, तो 'START' को कैसे सांकेतिक किया जाएगा ?

- (A) 56,781 (B) 67,857
(C) 67,247 (D) 65,325

प्रश्न संख्या 75—76 के लिए सूचना :—

चार लड़के राज, प्रेम, वेद और अशोक के साथ चार लड़कियाँ सुषमा, कुसुम, विमला और पूनम का दोस्ताना है, जरूरी नहीं कि उसी क्रम में। सुषमा और विमला दोस्त हैं, वेद की गर्लफ्रेंड सुषमा और विमला को पसंद नहीं करती, कुसुम वेद की परवाह नहीं करती है, प्रेम की गर्लफ्रेंड का सुषमा के साथ दोस्ताना है, सुषमा को राज पसंद नहीं है।

75. राज की गर्लफ्रेंड कौन है ?

- (A) सुषमा (B) कुसुम
(C) विमला (D) पूनम

76. सुषमा और विमला किसे पसंद नहीं है ?

- (A) पूनम (B) राज
(C) कुसुम (D) अशोक

72. ਜੇਕਰ SEND-MONEY ਨੂੰ QCLB-KMLCW ਦੇ ਤੌਰ ਤੇ ਸੰਕੇਤਕ ਕੀਤਾ ਗਿਆ ਹੈ, ਤਾਂ ਸਭ ਤੋਂ ਪਹਿਲੇ ਅਤੇ ਅਖੀਰਲੇ ਅੱਖਰ ਨੂੰ MOST-SECRET ਵਿੱਚ ਬਰਾਬਰ ਸੰਕੇਤਕ ਕੀ ਹੋਵੇਗਾ ?

- (A) R, K (B) K, R
(C) O, V (D) V, U

73. ਜੇ :

- (i) 'ਕੁਓ ਕੁਈ ਹੀਰ' ਦਾ ਅਰਥ ਹੈ 'ਮੁੰਡਾ ਚੰਗਾ ਹੈ'
(ii) 'ਲਾਈ ਕੁਓ ਮੇਯਾ' ਦਾ ਅਰਥ ਹੈ, 'ਮੀਨਾ ਅੱਛੀ ਹੈ'
(iii) 'ਰੁਓ ਲੈਵ ਮੇਯਾ' ਦਾ ਅਰਥ ਹੈ, 'ਸੱਭ ਠੀਕ ਹੈ'
(iv) 'ਸੀ ਹੈ ਕੁਈ' ਦਾ ਅਰਥ 'ਕੁੱਤਾ ਚੰਗਾ ਸੀ'

ਨਿਮਨਲਿਖਿਤ ਵਿੱਚੋਂ ਕਿਹੜਾ ਸ਼ਬਦ ਮੁੰਡੇ ਲਈ ਹੈ ?

- (A) ਕੁਓ (Quo) (B) ਕੁਈ (Cui)
(C) ਹੀਰ (Heer) (D) ਲਾਈ (Lai)

74. ਜੇਕਰ 'UNDERSTAND' ਨੂੰ 1234567823 ਦੇ ਤੌਰ ਤੇ ਸੰਕੇਤਕ ਕੀਤਾ ਗਿਆ ਹੈ, ਤਾਂ 'START' ਨੂੰ ਕਿਵੇਂ ਸੰਕੇਤਕ ਕੀਤਾ ਜਾਏਗਾ ?

- (A) 56,781 (B) 67,857
(C) 67,247 (D) 65,325

ਪ੍ਰਸ਼ਨ ਨੰਬਰ 75—76 ਲਈ ਜਾਣਕਾਰੀ :—

ਚਾਰ ਮੁੰਡੇ ਰਾਜ, ਪ੍ਰੇਮ, ਵੇਦ ਅਤੇ ਅਸ਼ੋਕ ਦੇ ਨਾਲ ਚਾਰ ਲੜਕੀਆਂ ਸੁਸ਼ਮਾ, ਕੁਸੁਮ, ਵਿਮਲਾ ਅਤੇ ਪੂਨਮ ਨਾਲ ਦੋਸਤਾਨਾ ਹੈ, ਜ਼ਰੂਰੀ ਨਹੀਂ ਕਿ ਉਸੀ ਕ੍ਰਮ ਵਿੱਚ। ਸੁਸ਼ਮਾ ਅਤੇ ਵਿਮਲਾ ਦੋਸਤ ਹਨ, ਵੇਦ ਦੀ ਗ੍ਰਲਫਰੈਂਡ ਸੁਸ਼ਮਾ ਅਤੇ ਵਿਮਲਾ ਨੂੰ ਪਸੰਦ ਨਹੀਂ ਕਰਦੀ, ਕੁਸੁਮ ਵੇਦ ਦੀ ਪਰਵਾਹ ਨਹੀਂ ਕਰਦੀ ਹੈ, ਪ੍ਰੇਮ ਦੀ ਗ੍ਰਲਫਰੈਂਡ ਸੁਸ਼ਮਾ ਨਾਲ ਦੋਸਤਾਨਾ ਹੈ, ਸੁਸ਼ਮਾ ਨੂੰ ਰਾਜ ਪਸੰਦ ਨਹੀਂ ਹੈ।

75. ਰਾਜ ਦੀ ਗ੍ਰਲਫਰੈਂਡ ਕੌਣ ਹੈ ?

- (A) ਸੁਸ਼ਮਾ (B) ਕੁਸੁਮ
(C) ਵਿਮਲਾ (D) ਪੂਨਮ

76. ਸੁਸ਼ਮਾ ਅਤੇ ਵਿਮਲਾ ਕਿਸ ਨੂੰ ਪਸੰਦ ਨਹੀਂ ਹੈ ?

- (A) ਪੂਨਮ (B) ਰਾਜ
(C) ਕੁਸੁਮ (D) ਅਸ਼ੋਕ

प्रश्न संख्या 77—78 के लिए सूचना :—

- (i) A, B, C, D, E, F और G केंद्र के सामने एक चक्र के चारों ओर बैठे हैं
- (ii) G जो दूसरे नंबर पर है वह C के बायें ओर है जो बिल्कुल सीधा F के बायें है।
- (iii) A जो तीसरे नंबर पर है वह E के बायें ओर है।
- (iv) D और E के बीच में B है

77. निम्नलिखित में से कौन-सा गलत है ?

- (A) A जो चौथे नंबर पर है वह E के दायें ओर है
- (B) G जो बिल्कुल सीधा है वह D के दायें ओर है
- (C) F जो तीसरे नंबर पर है वह D के दायें ओर है
- (D) B जो बिल्कुल सीधा है वह D के बायें ओर है।

78. F की स्थिति क्या है ?

- (A) D जो चौथे नंबर पर है वो दायें ओर है
- (B) C बिल्कुल सीधा बायें ओर है
- (C) A और E बीच में है
- (D) A बिल्कुल सीधा दायें ओर है

79. कथन के आधार पर, चार निष्कर्ष निकाले गए हैं। एक सही का पता लगाएं :

कथन : 'कई रचनात्मक व्यक्ति कलाकार बन जाते हैं'

निष्कर्ष :—

- (A) एक रचनात्मक व्यक्ति निश्चित रूप से एक कलाकार बन जाएगा
- (B) रचनात्मकता के बिना कलाकार बनना संभव नहीं है
- (C) कलाकार बनने के लिए उच्च स्तर की रचनात्मकता की आवश्यकता होती है
- (D) कुछ कलाकार रचनात्मक व्यक्ति होते हैं

80. कथन के अनुसार तीन मान्यताएं I, II और III में से, अंतर्निहित मान्यता चुनें :

“एक विज्ञापन ने सूचना दी है कि हम नहीं चाहते कि आप हमारे उत्पादक को अखबार में देखें बल्कि हमारी दुकान पर जाकर पूरी तरह से देखें।”

मान्यताएं :—

- I. लोग इसके विज्ञापन को देखकर किसी उत्पाद को खरीदने का निर्णय लेते हैं
- II. असामान्य अपील ग्राहकों को आकर्षित कर सकती है
- III. लोग उत्पाद को देखने के लिए खरीदारी करने आ सकते हैं
- (A) निहितार्थ में से कोई नहीं
- (B) केवल I और II निहितार्थ हैं
- (C) केवल II और III निहितार्थ हैं
- (D) सभी निहितार्थ हैं

पुश्न नंबर 77—78 लਈ जाਣकारी :—

- (i) A, B, C, D, E, F अਤੇ G ਕੇਂਦਰ ਦੇ ਸਾਮਨੇ ਇੱਕ ਚੱਕਰ ਦੇ ਦੁਆਲੇ ਬੈਠੇ ਹਨ
- (ii) G ਜੋ ਦੂਜੇ ਨੰਬਰ ਤੇ ਹੈ ਅਤੇ C ਦੇ ਖੱਬੇ ਪਾਸੇ ਹੈ ਜੋ ਬਿਲਕੁਲ ਸਿੱਧਾ F ਦੇ ਖੱਬੇ ਪਾਸੇ ਹੈ
- (iii) A ਜੋ ਤੀਸਰੇ ਨੰਬਰ ਤੇ ਹੈ ਅਤੇ E ਦੇ ਸੱਜੇ ਪਾਸੇ ਹੈ
- (iv) D ਅਤੇ E ਦੇ ਵਿੱਚ B ਹੈ।

77. ਨਿਮਨਲਿਖਿਤ ਵਿੱਚੋਂ ਕਿਹੜਾ ਗਲਤ ਹੈ ?

- (A) A ਜੋ ਚੌਥੇ ਨੰਬਰ ਤੇ ਹੈ ਅਤੇ E ਦੇ ਸੱਜੇ ਪਾਸੇ ਹੈ
- (B) G ਜੋ ਸਿੱਧਾ ਹੈ D ਦੇ ਸੱਜੇ ਪਾਸੇ ਹੈ
- (C) F ਜੋ ਤੀਸਰੇ ਨੰਬਰ ਤੇ ਹੈ ਅਤੇ D ਦੇ ਸੱਜੇ ਪਾਸੇ ਹੈ
- (D) B ਜੋ ਸਿੱਧਾ ਹੈ D ਦੇ ਖੱਬੇ ਪਾਸੇ ਹੈ

78. F ਦੀ ਸਥਿਤੀ ਕੀ ਹੈ ?

- (A) D ਜੋ ਚੌਥੇ ਨੰਬਰ ਤੇ ਹੈ ਸੱਜੇ ਪਾਸੇ ਹੈ
- (B) C ਬਿਲਕੁਲ ਸਿੱਧਾ ਹੈ ਅਤੇ ਖੱਬੇ ਪਾਸੇ ਹੈ
- (C) A ਅਤੇ E ਵਿਚਕਾਰ ਹੈ
- (D) A ਬਿਲਕੁਲ ਸਿੱਧਾ ਹੈ ਅਤੇ ਸੱਜੇ ਪਾਸੇ ਹੈ

79. ਬਿਆਨ ਦੇ ਆਧਾਰ ਤੇ ਚਾਰ ਸਿੱਟੇ ਕੱਢੇ ਗਏ ਹਨ। ਇੱਕਸਹੀ ਲੱਭੋ :
ਬਿਆਨ : 'ਬਹੁਤ ਸਾਰੇ ਰਚਨਾਤਮਕ ਵਿਅਕਤੀ ਕਲਾਕਾਰ ਬਣ ਜਾਂਦੇ ਹਨ'

ਪਰਿਣਾਮ :—

- (A) ਇੱਕ ਰਚਨਾਤਮਕ ਵਿਅਕਤੀ ਜ਼ਰੂਰ ਇੱਕ ਕਲਾਕਾਰ ਬਣ ਜਾਏਗਾ
- (B) ਰਚਨਾਤਮਕਤਾ ਤੋਂ ਬਗੈਰ ਕਲਾਕਾਰ ਬਣਨਾ ਸੰਭਵ ਨਹੀਂ ਹੈ
- (C) ਕਲਾਕਾਰ ਬਣਨ ਲਈ ਉੱਚ ਸਤਰ ਦੀ ਰਚਨਾਤਮਕਤਾ ਦੀ ਲੋੜ ਹੁੰਦੀ ਹੈ
- (D) ਕੁਝ ਕਲਾਕਾਰ ਰਚਨਾਤਮਕ ਵਿਅਕਤੀ ਹੁੰਦੇ ਹਨ

80. ਬਿਆਨ ਦੇ ਅਨੁਸਾਰ ਤਿੰਨ ਧਾਰਨਾਵਾਂ I, II ਅਤੇ III ਵਿੱਚੋਂ, ਸੰਖੇਪ ਧਾਰਨਾ ਦੀ ਚੋਣ ਕਰੋ :

“ਇੱਕ ਇਸ਼ਤਿਹਾਰ ਨੇ ਸੂਚਨਾ ਦਿੱਤੀ ਹੈ ਕਿ ਅਸੀਂ ਨਹੀਂ ਚਾਹੁੰਦੇ ਕਿ ਤੁਸੀਂ ਸਾਡੇ ਉਤਪਾਦ ਨੂੰ ਅਖ਼ਬਾਰ ਵਿੱਚ ਵੇਖੋ, ਬਲਕਿ ਸਾਡੀ ਦੁਕਾਨ ਤੇ ਜਾਕੇ ਪੂਰੀ ਤਰ੍ਹਾਂ ਵੇਖੋ।”

ਧਾਰਨਾਵਾਂ :—

- I. ਲੋਕ ਇਸਦੇ ਵਿਗਿਆਪਨ ਨੂੰ ਦੇਖਣ ਤੋਂ ਬਾਅਦ ਕੋਈ ਉਤਪਾਦ ਖਰੀਦਣ ਦਾ ਫੈਸਲਾ ਕਰਦੇ ਹਨ
- II. ਅਸਧਾਰਨ ਅਪੀਲ ਗਾਹਕਾਂ ਨੂੰ ਖਿੱਚ ਸਕਦੀ ਹੈ
- III. ਲੋਕ ਉਤਪਾਦ ਦੇਖਣ ਲਈ ਖਰੀਦਦਾਰੀ ਕਰਨ ਆ ਸਕਦੇ ਹਨ
- (A) ਸੰਖੇਪ ਕੋਈ ਵੀ ਨਹੀਂ
- (B) ਸਿਰਫ I ਅਤੇ II ਸੰਖੇਪ ਹਨ
- (C) ਸਿਰਫ II ਅਤੇ III ਹੀ ਸੰਖੇਪ ਹਨ
- (D) ਸਾਰੇ ਸੰਖੇਪ ਹਨ

81. कथन के चार तर्कों का अनुसरण करें। सबसे सबल तर्क का पता लगाएं :

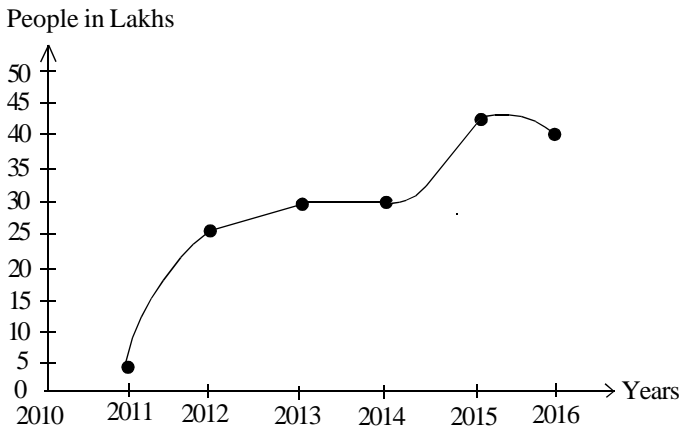
कथन : “भारत में प्रत्येक कॉलेज के छात्र के लिए अनिवार्य सैन्य प्रशिक्षण होना चाहिए।”

तर्क :-

- (i) हां, यह एक शक्तिशाली राष्ट्र के निर्माण का एकमात्र तरीका है
 - (ii) नहीं, मजबूरी हमेशा अरूचि की ओर ले जाती है
 - (iii) हाँ, यह युवा पीढ़ी में अनुशासन प्रदान करने का एकमात्र तरीका है
 - (iv) नहीं, यह बुनियादी लोकतांत्रिक अधिकार के खिलाफ है
- (A) केवल (i) और (iii) सबल हैं
 (B) केवल (ii) और (iv) सबल हैं
 (C) केवल (i) और (iv) सबल हैं
 (D) सभी सबल हैं

प्रश्न संख्या 82—84 के लिए सूचना :-

2011 से 2016 छः साल के लिए एक इलाके में प्रति माह रु. 20,000/- से अधिक आय वाल लोगों की संख्या (लाखों में) को निम्नलिखित ग्राफ में दर्शाया गया है।



82. दिए गए वर्ष के लिए प्रति माह रु. 20,000/- से अधिक आय वाले लोगों की लाखों में औसत संख्या क्या है ?

- (A) 25 (B) 30
 (C) 33 (D) 36

81. चार आरगुमेंट सटेटमेंटों की पालना करें। सँभ तें मजबूत दलील नुँ लँभे :

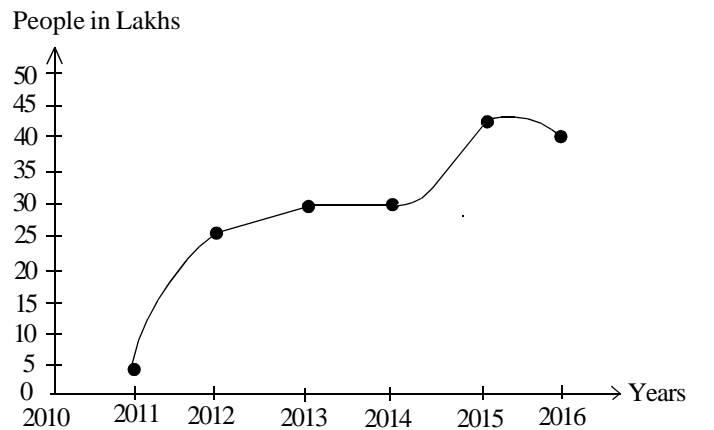
बिआन : “भारत विँच हर ईक कालज दे विदिआरषी लडी लज्जमी ढँजी सिखलाडी हेडी चानीडी है।”

आरगुमेंट :-

- (i) हां, ईग ईक शकतीशाली राशटर बढाउड द ईक ईक तरीका है
 - (ii) नहीँ, मजबूरी हमेशा बढतमीजी वँल लै जानी है
 - (iii) हां, नँजवान पीड़ी विँच अनुशासन देड द ईक ईक तरीका है
 - (iv) नहीँ, ईग मूल जमहुरी हँक दे विरुँप है
- (A) सिरड (i) अडे (iii) मजबूत हन
 (B) सिरड (ii) अडे (iv) मजबूत हन
 (C) सिरड (i) अडे (iv) मजबूत हन
 (D) सारे मजबूत हन

पूजन नँबर 82—84 लडी जाडकारी:-

2011 तें 2016 ढे साल दे लडी ईक इलाके दे पूडी महीने 20,000/- रुपडे तें वँपईकम (लँखं विँच) लँकं दी गिडती निमनलिखित गराड विँच दरशाडिआ गिआ है।



82. दिँडे गडे साल लडी पूडी महीना 20,000/- रुपडे तें वँप आमदन वाले लँकं दी औसत गिडती की है ?

- (A) 25 (B) 30
 (C) 33 (D) 36

83. दिए गए वर्षों की पहली छमाही में अवधि की दूसरी छमाही की तुलना में रु. 20,000/- से अधिक वेतन वाले लोगों की संख्या में कितना अंतर है ?
- (A) 75 लाख (B) 70 लाख
(C) 50 लाख (D) 55 लाख
84. लोगों की संख्या में रु. 20,000/- से ऊपर वेतन पाने वाले लोगों की श्रेणी में सबसे अधिक उछाल किस वर्ष आया था ?
- (A) 2014-15 के बीच में (B) 2011-12 के बीच में
(C) 2012-13 के बीच में (D) 2013-14 के बीच में
85. नीचे दिए गए कथन पर दी गई चार टिप्पणियों में से सही टिप्पणी चुनें :
- कथन :** “कार्यों को स्थगित करने से सावधान रहें : शीघ्र निर्णयों पर अवश्य कार्रवाई की जानी चाहिए”
- टिप्पणी :**
- (A) कथन एक तथ्य है
(B) कथन एक सलाह है
(C) कथन एक राय है
(D) कथन पक्षपाती है
86. 'X' एक सूखा राज्य है क्योंकि उस राज्य में कानून द्वारा शराब पीना मना है निम्नलिखित में से कौन सा कथन है, जो उपरोक्त कथन को यथार्थ शक्तिहीन बनाता है ?
- (A) राज्य 'X' के उपभोक्ता अधिकांश अन्य राज्यों की तुलना में ज्यादा शराब को स्थानांतरित करते हैं
(B) राज्य 'X' में अपराध दर सबसे अधिक है
(C) राज्य में बड़े पैमाने पर शराब का अवैध कारोबार होता है
(D) 'X' में शराब परोसना सबसे लोकप्रिय फैशन है
83. ਦਿੱਤੇ ਗਏ ਸਾਲਾਂ ਦੇ ਪਹਿਲੇ ਸ਼ਮਾਹੀ ਅਵਧੀ ਦੀ ਦੂਜੇ ਸ਼ਮਾਹੀ ਦੀ ਤੁਲਨਾ ਵਿੱਚ 20,000/- ਰੁਪਏ ਤੋਂ ਵੱਧ ਤਨਖਾਹ ਵਾਲੇ ਲੋਕਾਂ ਦੀ ਗਿਣਤੀ ਵਿੱਚ ਕਿੰਨਾ ਫਰਕ ਹੈ ?
- (A) 75 ਲੱਖ (B) 70 ਲੱਖ
(C) 50 ਲੱਖ (D) 55 ਲੱਖ
84. ਲੋਕਾਂ ਦੀ ਗਿਣਤੀ ਵਿੱਚ 20,000/- ਰੁਪਏ ਤੋਂ ਉਪਰ ਤਨਖਾਹ ਲੈਣ ਵਾਲੇ ਲੋਕਾਂ ਦੀ ਸ਼੍ਰੇਣੀ ਵਿੱਚ ਸੱਭ ਤੋਂ ਵੱਧ ਉਛਾਲ ਕਿਸ ਸਾਲ ਆਇਆ ਸੀ ?
- (A) 2014-15 ਦੇ ਵਿਚਕਾਰ (B) 2011-12 ਦੇ ਵਿਚਕਾਰ
(C) 2012-13 ਦੇ ਵਿਚਕਾਰ (D) 2013-14 ਦੇ ਵਿਚਕਾਰ
85. ਨਿਮਨਲਿਖਿਤ ਦਿੱਤੇ ਬਿਆਨ 'ਤੇ ਦਿੱਤੇ ਚਾਰ ਅਵਲੋਕਨਾਂ ਵਿਚਕਾਰ ਸਹੀ ਅਵਲੋਕਨ ਚੁਣੋ :
- ਬਿਆਨ:** “ਕੰਮ ਨੂੰ ਮੁਲਤਵੀ ਕਰਨ ਤੋਂ ਬਚੋ : ਤੁਰੰਤ ਫੈਸਲਿਆਂ ਉਪਰ ਕਾਰਵਾਈ ਕੀਤੀ ਜਾਣੀ ਚਾਹੀਦੀ ਹੈ”
- ਅਵਲੋਕਨ :**
- (A) ਬਿਆਨ ਇੱਕ ਤੱਥ ਹੈ
(B) ਬਿਆਨ ਇੱਕ ਸਲਾਹ ਹੈ
(C) ਬਿਆਨ ਇੱਕ ਰਾਏ ਹੈ
(D) ਬਿਆਨ ਪੱਖਪਾਤੀ ਹੈ
86. 'X' ਇੱਕ ਖੁਸ਼ਕ ਰਾਜ ਹੈ ਜਿਵੇਂ ਕਿ ਰਾਜ ਵਿੱਚ ਕਾਨੂੰਨ ਦੁਆਰਾ ਸ਼ਰਾਬ ਪੀਣਾ ਮਨ੍ਹਾਂ ਹੈ : ਨਿਮਨਲਿਖਿਤ ਬਿਆਨ ਵਿੱਚੋਂ ਕਿਹੜਾ ਬਿਆਨ ਹੈ ਜੋ ਕਿ ਉਪਰੋਕਤ ਬਿਆਨ ਨੂੰ ਵਿਸ਼ਵਾਸਯੋਗ ਸ਼ਕਤੀਹੀਨ ਬਣਾਉਂਦਾ ਹੈ ?
- (A) ਰਾਜ 'X' ਦੇ ਖਪਤਕਾਰ ਜ਼ਿਆਦਾਤਰ ਹੋਰਨਾਂ ਸੂਬਿਆਂ ਨਾਲੋਂ ਜ਼ਿਆਦਾ ਸ਼ਰਾਬ ਪੀਂਦੇ ਹਨ
(B) ਰਾਜ 'X' ਦੀ ਸਭ ਤੋਂ ਵੱਧ ਅਪਰਾਧ ਦੀ ਦਰ ਹੈ
(C) ਰਾਜ ਵਿੱਚ ਵੱਡੇ ਪੈਮਾਨੇ 'ਤੇ ਸ਼ਰਾਬ ਦਾ ਗੈਰ ਕਾਨੂੰਨੀ ਵਪਾਰ ਹੁੰਦਾ ਹੈ
(D) 'X' ਵਿੱਚ ਸ਼ਰਾਬ ਵਰਤੀ ਜਾਣੀ ਵਧੇਰੇ ਪ੍ਰਸਿੱਧ ਫੈਸ਼ਨ ਹੈ

प्रश्न संख्या 87—90 के लिए सूचना :—

एक परिवार के सभी छः सदस्य A, B, C, D, E और F एक साथ यात्रा कर रहे थे। C का बेटा B है लेकिन B की माँ C नहीं है। A और C एक विवाहित जोड़ा है। C का भाई E है। A की बेटी D है। B का भाई F है।

87. परिवार में कितने पुरुष सदस्य हैं ?

- (A) 1 (B) 3
(C) 2 (D) 4

88. B की माँ कौन है ?

- (A) D (B) A
(C) C (D) E

89. A के कितने बच्चे हैं ?

- (A) 1 (B) 2
(C) 3 (D) 4

90. E कैसे D से संबंधित है ?

- (A) पिता
(B) भाई
(C) चाचा
(D) निर्धारित नहीं किया जा सकता है

पूरा नंबर 87—90 लड़ी जाटकारी :—

ਇੱਕ ਪਰਿਵਾਰ ਦੇ ਸਭ ਛੇ ਮੈਂਬਰ A, B, C, D, E ਅਤੇ F ਨਾਲ ਸਾਰੇ ਯਾਤਰਾ ਕਰ ਰਹੇ ਸਨ। C ਦਾ ਬੇਟਾ B ਹੈ, ਲੇਕਿਨ B ਦੀ ਮਾਂ C ਨਹੀਂ ਹੈ। A ਅਤੇ C ਇੱਕ ਵਿਆਹੇ ਜੋੜੇ ਹਨ। C ਦਾ ਭਰਾ E ਹੈ। A ਦੀ ਬੇਟੀ D ਹੈ। B ਦਾ ਭਰਾ F ਹੈ।

87. ਪਰਿਵਾਰ ਵਿੱਚ ਕਿੰਨੇ ਪੁਰਸ਼ ਮੈਂਬਰ ਹਨ ?

- (A) 1 (B) 3
(C) 2 (D) 4

88. B ਦੀ ਮਾਂ ਕੌਣ ਹੈ ?

- (A) D (B) A
(C) C (D) E

89. A ਦੇ ਕਿੰਨੇ ਬੱਚੇ ਹਨ ?

- (A) 1 (B) 2
(C) 3 (D) 4

90. E ਦਾ D ਤੋਂ ਸੰਬੰਧਤ ਹੈ ?

- (A) ਪਿਤਾ
(B) ਭਰਾ
(C) ਚਾਚਾ
(D) ਨਿਰਧਾਰਤ ਨਹੀਂ ਕੀਤਾ ਜਾ ਸਕਦਾ ਹੈ

ROUGH WORK

ROUGH WORK